

ENGELLİ KAMU PERSONELİ SEÇME SINAVI (E-KPSS)  
ORTAÖĞRETİM  
DENEME: 1

T.C. KİMLİK NUMARASI :

ADI :

SOYADI :

SALON NO :

SIRA NO.

Soru kitapçığı numarasının cevap kâğıdına kodlanmamasının veya yanlış kodlanmasının sorumluluğu adaya aittir.

SORU KİTAPÇIK  
NUMARASI

**58000058**

Bu numarayı cevap kağıdınızdaki ilgili alana kodlamayı unutmayınız

**DİKKAT: SINAV BAŞLAMADAN ÖNCE AŞAĞIDAKİ UYARILARI MUTLAKA OKUYUNUZ.**

1. T.C. Kimlik numaranızı, Adınızı, Soyadınızı, Salon Numaranızı ve Sıra Numaranızı, Soru Kitapçığı üzerindeki ilgili alanlara yazınız.
2. Soru Kitapçık Numaranız yukarıda verilmiştir. Bu Numarayı Cevap Kağıdınızdaki ilgili alana kodlayınız. Salon görevlisinin de hem soru kitapçığındaki, hem de cevap kağıdınızdaki ilgili alanları imzalamasını sağlayınız. Bu kodlamayı cevap kağıdınıza yapmadığınız takdirde, sınavınızın değerlendirilmesi mümkün değildir.
3. Bu sayfanın arkasında yer alan açıklamaları dikkatle okuyunuz.

**Adayın İmzası:**

Soru Kitapçık Numarasını Doğru Kodladım.

**Salon Görevlisinin İmzası:**

Adayın soru kitapçık numarasını cevap kağıdına doğru kodladığını onaylıyorum.

## GENEL YETENEK TESTİ

**Bu test 30 sorudan oluşmaktadır.**

- 1) “Elif, Ankara’den aldığı kedisine Minnoş adını verdi.”

**Yukarıdaki cümlede kaç tane özel isim vardır.**

- A) 1 B) 2  
C) 3 D) 4  
E) 5

- 2) **Aşağıdaki cümlelerin hangisinde hem olumlu hem de olumsuz fiil bir arada kullanılmıştır?**

- A) Mavi kazağımı çok seviyorum ama sarı kazağımı hiç sevmiyorum.  
B) Yeşil kazağımı kardeşime verdim.  
C) Kırmızı kazağım kirlendi.  
D) Siyah kazağımın üstüne çay döküldü.  
E) Annem bana beyaz kazak aldı.

- 3) “Ördek suda yüzdü” cümlesindeki “yüz” sözcüğünün sesteşi aşağıdaki cümlelerden hangisinde kullanılmamıştır?

- A) Kadir denizde yüzdü.  
B) Furkan gölde yüzdü.  
C) Sibel güler yüzlü bir insan.  
D) Ördek derede yüzdü.  
E) Bülent ırmakta yüzdü.

- 4) **Aşağıdaki sözcük çiftlerinden hangisi eş anlamlıdır?**

- A) Islak - Kuru  
B) Güzel - Çirkin  
C) Kırmızı - Al  
D) Dize - Mısra  
E) Tutsak - Hür

Dilek, yeni okuluna giderken çok heyecanlıydı. Öğretmeni ve arkadaşlarını çok merak ediyordu. Yeni arkadaşları olacağı için sevinçten havalara uçuyordu...

**5 ve 6. Soruları parçaya göre cevaplayınız.**

- 5) **Metnin üzerinde durulan konu aşağıdakilerden hangisidir?**

- A) Okumanın önemi  
B) Yeni arkadaşlar edinmenin sevinci  
C) Dostluğun önemi  
D) Okulun evinin yanında olması  
E) Hiçbiri

- 6) **Yeni arkadaşları olacağı için çok sevinen çocuğun adı aşağıdakilerden hangisidir?**

- A) Dilek  
B) Ayşe  
C) Neşe  
D) Gül  
E) Melek

- 7) Trafik, ulaşım yollarının, yayalar ve her türlü taşıt tarafından kullanılmasıdır. Trafikte uymamız gereken bazı kurallar vardır. Bu kuralları öğrenip, uygulamak bizi trafik kazalarından korur.

**Bu metinde aşağıdaki soruların hangisinin cevabı yoktur?**

- A) Hangi ışık yanınca karşıya geçmeliyiz?  
 B) Trafik nedir?  
 C) Ulaşım yollarını kimler kullanır?  
 D) Trafikte nelere uymalıyız?  
 E) Trafik kazalarından nasıl korunuruz?

8)

1. Elimi yüzümü yıkadım.
2. Kahvaltımı yaptım.
3. Servise bindim.
4. Çantamı alarak evden çıktım.
5. Sabah erkenden kalktım.
6. Okula geldim.

**Yukarıda numaralandırılmış cümleleri sıralayarak anlamlı bir metin oluşturulduğunda, sıralama nasıl olmalıdır?**

- A) 1-2-3-4-5-6  
 B) 2-1-3-5-4-6  
 C) 5-2-1-4-3-6  
 D) 6-5-4-3-2-1  
 E) 5-1-2-4-3-6

- 9) "Takvim yaprağı "27 Ekim Pazartesi" gününü gösteriyor."

**Bu takvim yaprağından yola çıkarak aşağıdakilerden hangisi söylenemez?**

- A) İlbahar mevsimine ait bir gündür.  
 B) Haftanın ilk günü, ayın son günlerinden biridir.  
 C) Sonbahar mevsimine ait bir gündür.  
 D) Havaların soğumaya başladığını göstermektedir.  
 E) Ekim ayının son haftasıdır.

**10) Aşağıdaki cümlelerin hangisinde "gün" sözcüğü, bir deyim içinde yer almıştır?**

- A) Yeni komşumuz güngörmüş birine benziyor.  
 B) Hangi gün bize geleceksin?  
 C) Pazartesi günü iki dersten sınavım var.  
 D) Bugün hava çok soğuk.  
 E) Bugün benim doğum günüm.

**11) "Enver bey, yarın akşam İzmir'e gidiyor." cümlesinde yanlış yazılan kelime hangisidir?**

- A) Enver  
 B) bey  
 C) yarın  
 D) akşam  
 E) İzmir'e

- 12) Kıvrıkcık sarı saçları, iri ela gözleri vardı. Genelde mavi gömlek, siyah pantolon giyerdi. Şarkı söylemeyi çok severdi. Uzun boyluydu. Parmakları ince uzun, tırnakları her zaman bakımlıydı. Temizliğine çok önem verirdi. Bu yüzden sevilen, sayılan bir insandı.

**Yukarıdaki paragraf, hangi anlatım biçimine örnektir?**

- A) Öyküleyici anlatım  
B) Açıklayıcı anlatım  
C) Betimleyici anlatım  
D) Tartışmacı anlatım  
E) Şiirsel anlatım

- 13) Aşağıdaki altı çizili sözcüklerden hangisi mecaz anlamda kullanılmıştır?

- A) Mağazadaki görevli, ürün seçiminde bize yardım etti.  
B) Yağmur yağınca tüm çamaşırlar ıslandı.  
C) Babası, ona yeni bisiklet almış.  
D) Ustasının söyledikleri çok ağır geldi.  
E) Küçük kız, oyuncak bebeğini çok seviyor.

- 14) Aşağıdakilerin hangisinde verilen heceler yer değiştirirse anlamlı bir sözcük oluşur?

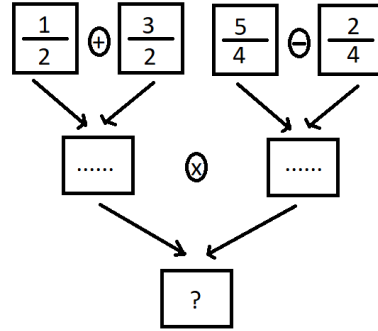
- A) mit - si  
B) ra - ba  
C) şa - ta  
D) Ce - be  
E) La - ka

- 15) Ahmet çok çalışkan bir öğrenci..... biraz yaramaz.

**Yukarıdaki cümlede boş bırakılan yere aşağıdaki kelimelerden hangisinin getirilmesi uygun olmaz?**

- A) ama  
B) ancak  
C) fakat  
D) ya da  
E) lakin

16)



**Yukarıdaki işlemde? Yerine hangi sayı gelmelidir?**

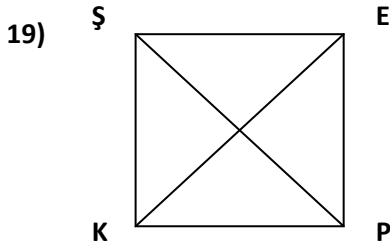
- A)  $\frac{1}{2}$   
B)  $\frac{3}{2}$   
C)  $\frac{2}{3}$   
D)  $\frac{2}{4}$   
E)  $\frac{2}{5}$

17) Bahçemizde 116 tane kaysı fidanı, 320 tane erik, 100 tane de şeftali fidanı var. Bahçede toplam ne kadar fidan vardır?

- A) 446                      B) 540  
C) 536                      D) 354  
E) 530

18)  $S = \{1,3,8,9,5,0\}$   $Z = \{3,4,2,5,1,8\}$  kümeleri veriliyor.  $S \cap Z$  kümesi elemanları aşağıdakilerden hangisidir?

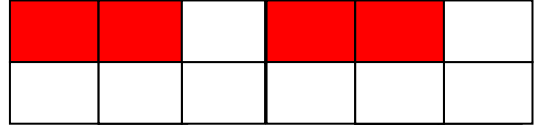
- A)  $\{1,2,8,6\}$               B)  $\{3,5,9,4\}$   
C)  $\{1,3,8,5\}$               D)  $\{0,5,4,2\}$   
E)  $\{1,8,3,9\}$



Yukarıda verilen şekilde kaç tane üçgen vardır?

- A) 5                          B) 6  
C) 4                          D) 2  
E) 8

20)



Yukarıdaki şeklin kesir olarak gösterimi aşağıdakilerden hangisidir?

- A) 

4
12

      B) 

8
12

      C) 

7
12
- D) 

4
8

      E) 

4
8

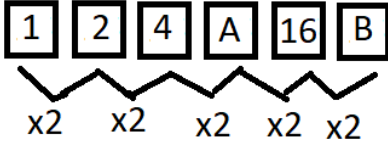
21) Saat 15:30 da evden çıkan Kübra 2 saat 15 dakika sonra okulda oluyor. Kübra saat kaçta okula varmış olur?

- A) 12:00                      B) 17:30  
C) 14:20                      D) 15:45  
E) 17:45

22) Songül abla günde 200 cm örgü örüyor. Songül abla bir haftanın sonunda kaç cm örgü örmüş olur?

- A) 1200                      B) 1300  
C) 1400                      D) 140  
E) 550

23)



Yukarıda verilen kurala göre A+B toplamı kaçtır?

- A) 44                      B) 40  
C) 48                      D) 50  
E) 65

24) Dört düzine balonun iki destesi patlarsa geriye kaç balon kalır?

- A) 14                      B) 24  
C) 12                      D) 18  
E) 28

25) 59 sayısının onlar basamağındaki sayının basamak değeri kaçtır?

- A) 50                      B) 90  
C) 5                      D) 1  
E) 9

26) 70 sayısının 36 eksiğinin 54 fazlası kaçtır?

- A) 88                      B) 95  
C) 27                      D) 75  
E) 60

27) 7893 sayısında birler basamağı ve yüzler basamağındaki sayılar değiştirildiğinde oluşan sayı kaçtır?

- A) 7398                      B) 3379  
C) 7893                      D) 7993  
E) 3789

28) Aşağıdaki tabloda beş kişi ve boyları verilmiştir.

KİŞİLER	BOYU
Ahmet	170
Osman	180
Sıla	155
Tuğba	170
Selda	175

Bu beş kişinin boy ortalaması kaç cm'dir?

- A) 155                      B) 180  
C) 165                      D) 170  
E) 155

29) En büyük üç basamaklı sayı ile en küçük dört basamaklı sayının toplamı kaçtır?

- A) 1998                      B) 1888  
C) 1987                      D) 1898  
E) 1999

30) Kare şeklindeki okul bahçemizin alanı 1600 metrekaredir. Okul bahçesinin bir kenar uzunluğu kaç metredir?

- A) 300                      B) 400  
C) 500                      D) 600  
E) 200

**GENEL YETENEK TESTİ BİTTİ**  
**GENEL KÜLTÜR TESTİNE GEÇİNİZ.**

## GENEL KÜLTÜR TESTİ

**Bu test 30 sorudan oluşmaktadır.**

**1) Toplumsal eşitlik Atatürk'ün hangi ilkesiyle doğrudan ilişkilidir?**

- A) Cumhuriyetçilik
- B) Halkçılık
- C) Devletçilik
- D) İnkılâpçılık
- E) Laiklik

**2) Milliyetçilik hareketleri sonucu Osmanlıdan ilk imtiyaz elde eden toplum hangisidir?**

- A) Sırlar
- B) Almanlar
- C) Yunanlar
- D) Bulgarlar
- E) Arnavutluk

**3) 1789 Fransız İhtilali'nin ortaya çıkmasında aşağıdakilerden hangisi etkili olmuştur?**

- A) Halkın refah içinde yaşaması
- B) Özgür düşüncenin önem kazanmaya başlaması
- C) Ekonomik özgürlüklerin fazla olması
- D) İnsanların iş bulma kolaylığı
- E) Ülke sınırlarının genişliği

**4) Hangi antlaşma ile Osmanlı Devleti Pazar haline gelmiştir?**

- A) Balta Limanı Antlaşması
- B) Hünkar İskelesi Antlaşması
- C) Kırım Antlaşması
- D) Paris Antlaşması
- E) Londra Antlaşması

**5) Aşağıdakilerden hangisi Tanzimat Fermanı'nın getirdiği yeniliklerden biri değildir?**

- A) Herkes kanun önünde eşit sayılacak
- B) Askerlik işleri belirli kurallara bağlanacak
- C) Bütün vatandaşların mal ve can güvenliği devlet tarafından sağlanacak
- D) Vergiler, kişilerin kazancına göre adil bir şekilde düzenlenecek
- E) Zengin zümrelere ayrıcalık verilmesi

**6) Kara Gömlekliler'in Napoli'den Roma'ya yürüyüşü ile iktidara 1922 Ağustos'unda geçen parti aşağıdakilerden hangisidir?**

- A) Faşist Parti
- B) Nasyonal Sosyalist Parti
- C) Komünist Parti
- D) Demokrat Parti
- E) Halkçı Parti



- 7) 1. Dünya Savaşı'ndan sonra İngiltere'nin Irak'a yerleşmesinden sonra Musul, Türkiye ile İngiltere arasında sorun olmuştur?

**Lozan Barış Antlaşması'nda çözülemeyen bu mesele aşağıdaki antlaşmalardan hangisiyle çözülmüştür?**

- A) 1921 Ankara Antlaşması  
B) Mondros Ateşkes Antlaşması  
C) Locarno Antlaşması  
D) 1926 Ankara Antlaşması  
E) McMahon Antlaşması

- 8) **Doğu Anadolu Bölgesi'nin en önemli gelir kaynağı aşağıdakilerden hangisidir?**

- A) Tarım  
B) Hayvancılık  
C) Madencilik  
D) Sanayi  
E) Hiçbiri

- 9) Anayasamıza göre insanların sınırlandırılmaz temel hak ve özgürlükleri vardır. Ne sebeple ne olursa olsun bu haklar sınırlandırılmaz.

**Buna göre aşağıdakilerden hangisi bu haklardan değildir?**

- A) Yaşama Hakkı  
B) Düşünce ve Kanaat Özgürlüğü  
C) Din ve Vicdan Özgürlüğü  
D) Konut Dokunulmazlığı  
E) Eğitim Hakkı

- 10) **Aşağıda verilen yönetim birimleri ve yöneticileri ile ilgili eşleştirmelerden hangisi yanlıştır?**

- A) İl -Vali  
B) Mahalle- İhtiyar Heyeti  
C) İlçe -Kaymakam  
D) Köy- Muhtar  
E) Belediye -Belediye Başkanı

- 11) Abdullah her sabah okuluna toplu taşıma araçları ile gitmektedir. Fakat mevcut hareket saatlerinin yetersiz olmasından dolayı okula geç kalmakta ya da okulda uzun süre beklemektedir.

**Abdullah'ın bu sorunun çözümü aşağıdaki yerel yönetim birimlerinden hangisinin görev alanına girmektedir?**

- A) Valilikler  
B) Belediyeler  
C) Muhtarlıklar  
D) Kaymakamlıklar  
E) Bakanlıklar

12) T.C. Anayasası'na göre karşılıklılık esası gözetilmek kaydıyla Türkiye'de ikamet eden yabancıların başvurma hakkına sahip olduğu siyasi hak ve ödev aşağıdakilerden hangisidir?

- A) Siyasi Faaliyetlerde Bulunma Hakkı
- B) Kamu Hizmetlerine Girme Hakkı
- C) Seçme, Seçilme Hakkı
- D) Dilekçe Hakkı
- E) Mal Bildirimi

13) Ait olduğu milletin varlığını sürdürmesi ve yüceltmesi için diğer bireylerle birlikte çalışmaya ve bu çalışmayı ve bilinci diğer kuşaklara da yansıtmak Atatürk'ün hangi ilkesine dayanır?

- A) Cumhuriyetçilik
- B) Devletçilik
- C) İnkılâpçılık
- D) Halkçılık
- E) Milliyetçilik

14) Okuma yazmayı kolaylaştırmak amacıyla 1 Kasım 1928 tarihinde Türk Alfabesi yasasının kabul edilmesi hangi alanda yapılan bir inkılâptır?

- A) Ekonomi alanında
- B) Sosyal alanda
- C) Siyasal alanında
- D) Hukuk alanında
- E) Eğitim alanında

15) Aşağıdakilerden hangisi kıta değildir?

- A) Avusturya
- B) Avrupa
- C) Afrika
- D) Amerika
- E) Antarktika

16) Aşağıdakilerden hangisi iki il komşudur?

- A) Tokat - Amasya
- B) Sivas - Amasya
- C) Nevşehir - Çorum
- D) Kayseri - Elazığ
- E) Bartın - Sinop

17) Göktürklerin Orta Asya'dan çıkışlarını anlatan destan aşağıdakilerden hangisidir?

- A) Ergenekon
- B) Saka
- C) Kül Tigin
- D) Manas
- E) Gılgamış Destanı

18) Anıtkabir hangi ilimizdedir?

- A) İstanbul
- B) Samsun
- C) Adana
- D) Ankara
- E) Sakarya

19) “Yurttaşların devlet yönetimine katılmalarını ve denetleme yapabilmelerini sağlamak, temel haklar arasında yer almıştır. Bu hak bireysel haklardan olup oy kullanma hakkı olarak ifade edilir. İfadesine hangi haktan söz edilmektedir?

- A) Dilekçe Hakkı
- B) Seçme ve Seçilme Hakkı
- C) Eğitim Görme Hakkı
- D) Sağlık Hakkı
- E) Seyahat Hakkı

20) Aşağıdakilerden hangisi anlaşmazlıkların çözümüne olumlu katkı sağlar?

- A) Soruna eleştirel yaklaşmak
- B) Karşımızdakini dinlememek
- C) Empati yapmak
- D) Tarafli davranmak
- E) Ön yargılı olmak

21) Divanü Lugati't- Türk 'ü kim yazmıştır?

- A) Yunus Emre
- B) Kutadgu Bilig
- C) Kaşgarlı Mahmut
- D) Rifat Bilge
- E) Hacı Bektaş-ı Velî

22) Türkiye'nin en küçük ili hangisidir?

- A) Yalova
- B) Bayburt
- C) Bitlis
- D) Gümüşhane
- E) Kars

23) Aşağıdaki eserlerden hangisi Büyük Selçuklulara ait eserlerdendir?

1. Akköprü
2. Eğri Minare
3. Konya Karatay Medresesi
4. Çifte Minareli Medrese

- A) 1-2
- B) 2-3
- C) 1-2-3
- D) 1-3

E)1-2-3-4

24) “Çalığıuşu”adlı eser kime aittir?

- A) Sebahattin Ali
- B) Reşat Nuri GÜNTEKİN
- C) Orhan KEMAL
- D) Peyami SAFA
- E) Halide Edip ADIVAR

25) TBMM ne zaman toplanır?

- A) Her yıl Ekim ayının ilk günü kendiliğinden toplanır.
- B) Eylül ayının ilk haftası toplanır
- C) Ağustosta toplanır.
- D) Kasımda toplanır.
- E) Her zaman açıktır.

26) Duvara asılı bir haritanın sol kısmı her zaman hangi yönü gösterir?

- A) Kuzey
- B) Güney
- C) Kuzeybatı
- D) Güneydoğu
- E) Batı

27) İstiklal Şairi olarak anılan şair aşağıdakilerden hangisidir?

- A) Orhan Veli Kanık
- B) Yahya Kemal Beyatlı
- C) Mehmet Akif Ersoy
- D) Cemal Süreyya
- E) Atilla İlhan

28) Türk tarihinin en ünlü mimarı kimdir?

- A) Mimar Sinan
- B) Mimar Kemalettin
- C) Mimar Selahattin
- D) Mimar Abdullah
- E) Mimar Osman

29) Köylülerin el birliğiyle, köyün ya da birbirlerinin işlerini yapmalarına ne ad verilir?

- A) Tören
- B) Merasim
- C) Düğün
- D) İmece
- E) Harman

30) Aşağıdakilerden hangisi doğal ışık kaynağıdır?

- A) Ampul
- B) Mum
- C) Gaz lambası
- D) Işıldak
- E) Güneş

**TEST BİTTİ.**

**CEVAPLARINIZI KONTROL EDİNİZ.**