

ENGELLİ KAMU PERSONELİ SEÇME SINAVI (E-KPSS)
ORTAÖĞRETİM
DENEME: 10

T.C. KİMLİK NUMARASI	:	
ADI	:	
SOYADI	:	
SALON NO	:	
		SIRA NO.
Soru kitapçığı numarasının cevap kâğıdına kodlanmamasının veya yanlış kodlanmasının sorumluluğu adaya aittir.		
SORU KİTAPÇIK NUMARASI	58000058	Bu numarayı cevap kağıdınızdaki ilgili alana kodlamayı unutmayınız

DİKKAT: SINAV BAŞLAMADAN ÖNCE AŞAĞIDAKİ UYARILARI MUTLAKA OKUYUNUZ.

1. T.C. Kimlik numaranızı, Adınızı, Soyadınızı, Salon Numaranızı ve Sıra Numaranızı, Soru Kitapçığı üzerindeki ilgili alanlara yazınız.
2. Soru Kitapçık Numaranız yukarıda verilmiştir. Bu Numarayı Cevap Kağıdınızdaki ilgili alana kodlayınız. Salon görevlisinin de hem soru kitapçığındaki, hem de cevap kağıdınızdaki ilgili alanları imzalamasını sağlayınız. Bu kodlamayı cevap kağıdınıza yapmadığınız takdirde, sınavınızın değerlendirilmesi mümkün değildir.
3. Bu sayfanın arkasında yer alan açıklamaları dikkatle okuyunuz.

Adayın İmzası: Soru Kitapçık Numarasını Doğru Kodladım.	<input type="text"/>
Salon Görevlisinin İmzası: Adayın soru kitapçık numarasını cevap kağıdına doğru kodladığını onaylıyorum.	<input type="text"/>

Bu kitapçık, Sivas - Merkez Ahmet Kutsi Tecer Özel Eğitim Meslek Okulu Müdürlüğünce, Toplum Hizmeti faaliyetleri çerçevesinde yürütülen "Birlikte Başarıyoruz Projesi" kapsamında, ülkemiz genelinde faaliyet gösteren Özel Eğitim Meslek Okullarında öğrenim gören öğrenciler için hazırlanmıştır.

GENEL YETENEK TESTİ

Bu test 30 sorudan oluşmaktadır.

1) Aşağıdaki tümcelerden hangisinin sonuna farklı bir noktalama işareti getirilmelidir?

- A) Okula ne zaman gideceksin
- B) Bu kimin köpeği
- C) Hakan nereden geldi
- D) İmdat, yardım edin
- E) Senin adın ne

2) Aşağıdaki cümlelerin hangisinde bir karşılaştırma söz konusudur?

- A) Sevinay tiyatro izlemeyi çok sever.
- B) Zehra'nın saçı Songül'ün saçından daha uzundur.
- C) Rukiye bugün arkadaşlarıyla beraber voleybol oynadı.
- D) Pınar resim yarışmasında 2. oldu.
- E) Sevgi hafta sonu Samsun'a gidecek.

3) Aşağıdaki kelimelerden hangisi anlam yönünden diğerlerinden farklıdır?

- A) Gül
- B) Lale
- C) Menekşe
- D) Karanfil
- E) Kedi

4) “Sürü – ağaç – düşünce - Fatih” sözcükleri için aşağıdaki ifadelerden hangisi doğrudur?

- A) Topluluk adı – cins ad - soyut ad – Özel ad
- B) Özel ad – somut ad – topluluk adı – Cins ad
- C) Soyut ad – çoğul ad - tekil ad – çoğul ad
- D) Cins ad - özel ad – somut ad – soyut ad
- E) Özel ad – soyut ad – topluluk adı – tekil ad

5) “Okul – Mektep” kelimelerinin arasındaki ilişkiye benzer ilişki aşağıdaki hangi ikilide vardır?

- A) Uzun – Kısa
- B) Sonbahar – Güz
- C) Tatlı – Acı
- D) Siyah – Beyaz
- E) Genç – Yaşlı

6) Evleri okula uzak olduğu için okula servisle gidiyorlar.” cümlesinde altı çizili söz hangi sorunun yanıtıdır?

- A) Nasıl? B) Neden?
- C) Nereye? D) Niçin?
- E) Ne zaman?

- 7) Otobüs saati yaklaştı() Hemen çıkmamız gerekiyor() Kitaplarınızı() defterlerinizi hazırladınız mı()

Yukarıdaki parçada, parantez içlerine sırasıyla hangi noktalama işaretleri gelmelidir?

- A) (!) (,) (,) (.) B) (.) (.) (,) (?)
C) (?) (.) (.) (...) D) (:) (.) (.) (?)
E) (:) (!) (.) (.)

- 8) **Aşağıdaki cümlelerin hangisinde yazım yanlışı yapılmıştır?**

- A) Ahmet, Atatürk İlkokulu'nda okuyor.
B) Salı günü Ankara'dan Sinop'a gideceğim.
C) Benim, kedimin adı boncuk.
D) Arkadaşım Kümbet Mahallesi'nde oturuyor.
E) Bu hafta Sivasspor Fenerbahçe'yi 3 – 1 yendi.

- 9) "Mustafa bu sabah otobüsle Samsun'dan İzmir'e gitti."

Yukarıdaki cümlede bulunan özel isimler aşağıdakilerden hangisinde doğru olarak verilmiştir?

- A) Mustafa, sabah
B) Otobüs, İzmir
C) Mustafa, sabah, İzmir
D) Mustafa, Samsun, İzmir
E) Sabah, otobüs, Samsun

- 10) **Aşağıdaki cümlelerin hangisinde sıfat kullanılmıştır?**

- A) Annem televizyon izledi.
B) Aynur saçlarını kestirdi.
C) Ablam eve geldi.
D) Dilek limonata içti.
E) Annem acı biberi çok sever.

11) Televizyon izlemeyi kitap okumaya tercih eden insanlara çok şaşıyorum. Kitap okurken okuduğunuz olaylar kafanızda canlanır. Hayal gücünüz ne kadar gelişmişse, kitaptaki olaylar ve insanlar da o kadar farklılık kazanır. Oysa televizyon öyle mi? Televizyon izlerken, sadece izlediklerinizle yetinmek zorunda kalırsınız. Hayal gücünüz hiç devreye girmez. Örneğin "ağaç" kelimesini okurken kafanızda farklı farklı ağaçlar canlanır. Televizyonda bir ağaç gördüğünüzde ise kafanızda canlanacak bir ağaç figürü olamaz. Sadece gördüğünüzle yetinmek zorunda kalırsınız. Kitaplar hayal gücümüzü geliştirirken aynı zamanda kelime dağarcığımızı artırır ve bizlere yeni bilgiler kazandırır.

Yukarıdaki parçanın başlığı ne olabilir?

- A) Kitapların Faydaları
- B) Televizyonun Önemi
- C) Televizyon
- D) İnsan
- E) Hayal Gücü

12,13 ve 14. sorulara aşağıdaki metne göre cevaplandırınız.

Satrancın, zamanımızdan en az 4000 yıl önce Mısır'da oynandığına dair bulgular piramitlerdeki kabartmalarda bulunmaktadır. Satranç Çin'de, Mezopotamya'da ve Anadolu'da da oynanmaktaydı. Oyunun bugünkü adını alması, MS 3. - 4. yüzyıllarda Hindistan'da, oyuna Çaturanga denmesi ile başlar. Satranç ile ilgili ilk yazılı belgeler Hindistan'dan kalmaz. İlk resmi dünya satranç şampiyonu Wilhelm Steinitz'dir.

12) Satrancın 4000 yıl önce Mısır'da oynandığı nasıl anlaşılmıştır?

- A) Piramitlerdeki kabartmalardan anlaşılmıştır.
- B) Televizyon yayınlamıştır.
- C) Gazetelerde haber olarak verilmiştir.
- D) Radyoda duyurulmuştur.
- E) Mezopotamya'da turnuvalar yapılmıştır.

13) İlk resmi dünya satranç şampiyonu aşağıdakilerden hangisidir?

- A) Çaturanga
- B) Wilhelm Steinitz
- C) Mezopotamya
- D) Piramit
- E) Wilhelm Bill

14) Satranç ile ilgili aşağıdakilerden hangisinden bahsedilmemiştir?

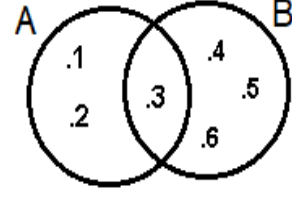
- A) Satrancın ne zaman ortaya çıktığından
- B) Satrancın ilk nerede oynandığından
- C) Satranç ile ilgili ilk yazılı belgelerin nerede olduğundan
- D) Satranç oyununu amacının ne olduğundan
- E) İlk resmi dünya satranç şampiyonunun kim olduğundan

- 15) 1- için
2- gittik
3- yapmak
4- Muğla' ya
5- tatil

Yukarıdaki sözcüklerle anlamlı ve kurallı bir cümle oluşturulmak istense sıralama nasıl olur?

- A) 3 -1-5- 4-2
- B) 1-3-2-5-4
- C) 2-3-1-5-4
- D) 5-3-1-4-2
- E) 1-3-5-2-4

16)



Yukarıda verilen A ve B kümesine göre $(A \cap B)$ aşağıdakilerden hangisidir?

- A) $(A \cap B) = \{ 1,2 \}$
- B) $(A \cap B) = \{ 1,2,3 \}$
- C) $(A \cap B) = \{ 3 \}$
- D) $(A \cap B) = \{ 4,5,6 \}$
- E) $(A \cap B) = \{ 3,4,5 \}$

17) Yukarıda verilen A ve B kümesine göre $(A \cup B)$ aşağıdakilerden hangisidir?

- A) $(A \cup B) = \{ 1,2,3 \}$
- B) $(A \cup B) = \{ 1,2 \}$
- C) $(A \cup B) = \{ 1,2,5 \}$
- D) $(A \cup B) = \{ 3 \}$
- E) $(A \cup B) = \{ 1,2,3,4,5,6 \}$

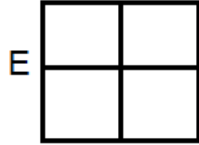
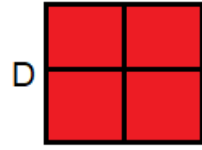

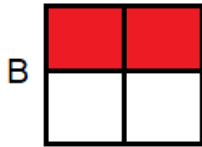
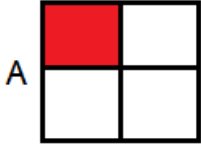
18)

19	23	27	31	35	39
----	----	----	----	----	----

Yukarıdaki sayı örüntüsündeki kural aşağıdakilerden hangisidir?

- A) İleriye doğru 2'şer ritmik sayma
- B) İleriye doğru 4'er ritmik sayma
- C) Geriye doğru 4'er ritmik sayma
- D) İleriye doğru 3'er ritmik sayma
- E) Geriye doğru 5'er ritmik sayma

- 19) $\frac{2}{4}$ kesrinin şekille gösterimi aşağıdakilerden hangisidir?



- 20) 65'in 3 katının 57 fazlasının 15 eksiği aşağıdakilerden hangisidir?

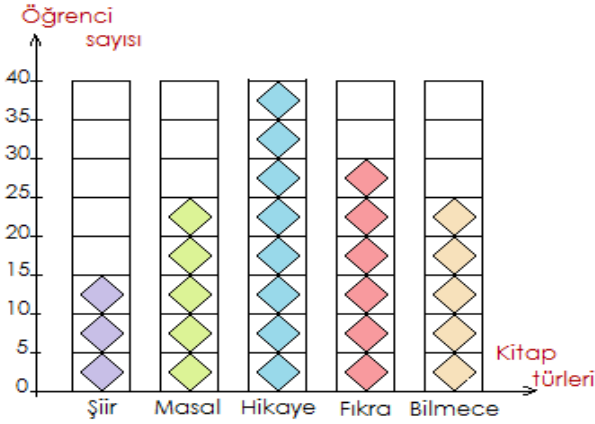
- A) 237 B) 207
C) 259 D) 856
E) 218

- 21) Teyzem 45 yaşındadır. Ablamın yaşı da teyzemin yaşının $\frac{2}{5}$ ' ü kadardır. Ablam kaç yaşındadır?

- A) 15 B) 30
C) 40 D) 18
E) 20

22, 23 ve 24. Soruları aşağıdaki grafiğe göre cevaplayınız.

Öğrencilerin bir hafta boyunca okuduğu kitap türleri aşağıdaki grafikte verilmiştir.



22) Bir hafta süresince toplam kaç öğrenci kitap okumuştur?

- A) 130 B) 256
C) 135 D) 100
E) 75

23) Hikâye kitabı okuyanların sayısı, fıkra kitabı okuyanlardan kaç fazladır?

- A) 15 B) 20
C) 22 D) 30
E) 10

24) En çok okunan kitap türü ile en az okunan kitap türü sayıları farkı kaçtır?

- A) 15 B) 25
C) 20 D) 5
E) 30

25) Kısa kenarı 24 cm, uzun kenarı kısa kenarının 3 katı olan bir dikdörtgenin çevresi aşağıdakilerden hangidir?

- A) 192 B) 635
C) 150 D) 155
E) 195

26)

Peynir → 1 kg = 28 TL

Sucuk → 1 kg = 60 TL

Yukarıdaki tabloda belirtilen peynirden 1 kg, sucuktan yarım kilogram aldık. Kasaya kaç TL vermemiz gerekir?

- A) 28 TL B) 31 TL
C) 34 TL D) 58 TL
E) 42 TL

27) Aşağıdaki saate göre 30 dakika sonra saat kaç olur?



- A) 03.45 B) 04.00
C) 04.15 D) 04.40
E) 04.30

28) “6 – 1 – 9 – 0 - 2” rakamlarını kullanarak oluşturulan en büyük doğal sayı aşağıdakilerden hangisidir?

- A) 91062 B) 29096
C) 60921 D) 12906
E) 96210

29) Yukarıdaki işleminin sonucu aşağıdakilerden hangisidir?

$$\frac{4}{8} - \frac{2}{8} = ?$$

- A) $\frac{2}{8}$ B) $\frac{3}{8}$
C) $\frac{2}{0}$ D) $\frac{4}{8}$
E) $\frac{6}{8}$

30) 24 kalemi 3 kardeŖe eŖit Ŗekilde
paylaŖtırırsak her birine ka kalem
düşer?

A) 2

B) 8

C) 5

D) 6

E) 7

GENEL YETENEK TESTİ BİTTİ
GENEL KÜLTÜR TESTİNE GEÇİNİZ.

GENEL KÜLTÜR TESTİ

Bu test 30 sorudan oluşmaktadır.

1) Eski Türklerde mülkiyet kavramının gelişmemesinin temel nedeni aşağıdakilerden hangisidir?

- A) Mimarinin gelişmiş olması
- B) Hukuk düzendeki yenilikler
- C) Göçebelik yaşam tarzının yaygın olması
- D) İnsanlar arasındaki saygı sevgi
- E) Edebiyata daha çok önem vermeleri

2) Orman alanları, kıyı bölgelerimizde daha gür ve geniştir. Bunda, aşağıdakilerden hangisi daha fazla etkili olmuştur?

- A) Yağışlar
- B) Sıcaklık
- C) Dağlar
- D) Toprak yapısı
- E) Akarsular

3) Dünyamızda gece ile gündüzün eşit olduğu tarih hangisidir?

- A) 20 Nisan
- B) 21 Aralık
- C) 1 Ocak
- D) 15 Haziran
- E) 21 Mart

4) Eski Türklerin at sütünden elde ettikleri içeceğin adı aşağıdakilerden hangisidir?

- A) Kımız
- B) Boza
- C) Kefir
- D) Kola
- E) Çay

5) Aşağıdakilerden hangisi eski Türklere ait spor dallarından biri değildir?

- A) Cirit
- B) Ok atma
- C) Güreş
- D) Ata binme
- E) Voleybol

6) Aşağıdakilerden hangisi örgütlü toplumun özelliklerinden biridir?

- A) Hak ve özgürlüklerini bilip koruyan toplumdur.
- B) İnsanların daha çok kendilerini düşündükleri toplumdur.
- C) İnsan hakları ihlallerine karşı tepki göstermeyen toplumdur.
- D) Belirli insanların çıkarlarını öncelikli sayan toplumdur.
- E) Hiçbiri

7) İnsan Haklarının ulusal düzeyde korunmasında aşağıdakilerden hangisinin yaptırımı daha etkilidir?

- A) Genelge ve tüzükler
- B) Anayasa ve yasalar
- C) Yönetmelikler
- D) Tüzük ve yönetmelikler
- E) Genelgeler

8) Yeni Türk Devleti'nde halkın yeterli sermaye birikimine sahip olmaması aşağıdaki ilkelerden hangisinin benimsenmesine neden olmuştur?

- A) Laiklik
- B) Halkçılık
- C) Devletçilik
- D) İnkılâpçılık
- E) Cumhuriyetçilik

9) Atatürk'ün doğduğu şehir olan Selanik şimdi hangi ülkededir?

- A) Bulgaristan
- B) Yunanistan
- C) Türkiye
- D)Almanya
- E) Çek Cumhuriyeti

10) Kurtuluş Savaşı kimin önderliğinde kazanılmıştır?

- A) Padişah
- B) Hasan Tahsin
- C) İsmet İnönü
- D) Mustafa Kemal
- E) Ertuğrul Gazi

11) Fransız İhtilali ile ortaya çıkan milliyetçilik akımı sonucunda Avrupa'da ne olmuştur?

- A) Ulusal ayaklanmalar
- B) Teknik buluşlar
- C) İnsan hakları
- D) Coğrafi keşifler
- E) Eğitime önem verilmesi

12) Aşağıdakilerden hangisi, Ürgüp-Göreme çevresinde volkanik dağlardan çıkan malzemelerin biriktiği araziler üzerinde, sel ve sel sularının aşındırma yaparak oluşturduğu şekillerden biridir?

- A) Cennet ve Cehennem Obrukları
- B) İnsuyu Mağarası
- C) Pamukkale Travertenleri
- D) Kızılırmak Havzası
- E) Peribacaları

13) İhtiyaç duyulan bitkileri yetiştirmek amacıyla toprak üzerinde yapılan çalışmalara ne denir?

- A) Ulaşım B) Sanayi
C) Tarım D) Yerleşme
E) Ticaret

14) Gemilerin barındığı, yük alıp boşalttıkları, yolcu indirip bindirdikleri doğal veya yapay yerlere ne denir?

- A) Köprü
B) Liman
C) Tünel
D) Viyadük
E) İskele

15) Cumhuriyetin ilanından önceki yönetim şekline ne denir?

- A) Cumhuriyet
B) Meşrutiyet
C) Egemenlik
D) Saltanat
E) Monarşi

16) Toplum Hayatını düzenleyen yazılı kurallar aşağıdakilerden hangisidir?

- A) Gelenekler
B) Görenekler
C) Ahlak Kuralları
D) Din Kuralları
E) Hukuk Kuralları

17)

- I. Amasya görüşmesi
II.Sivas kongresi
III.Erzurum Kongresi

Yukarıdaki olayların kronolojik olarak sıralanması aşağıdakilerden hangisinde doğru olarak verilmiştir?

- A) I- III- II B) II-I-III
C) I-II-III D) II-III-I
E) III-II-I

18) Aşağıdakilerden hangisi "Olağanüstü hal" değildir?

- A) Savaş hali
B) Bayramlar
C) Sıkıyönetim
D) Tehlikeli salgın hastalıklar
E) Doğal afetler

19) E – Devlet şifresi nereden alınır?

- A) İnternet
B) Okul
C) PTT
D) Hastane
E) Banka

20) “Ya olduğun gibi görün ya da görüldüğün gibi ol” özdeyişi kime aittir?

- A) Yunus EMRE
- B) Evliya ÇELEBİ
- C) Pir Sultan ABDAL
- D) Mevlana
- E) Şems

21) Ankara hangi yılda başkent olmuştur?

- A) 1923
- B) 1919
- C) 1920
- D) 2019
- E) 1974

22) Aşağıdakilerden hangisi bir Âşık Veysel türküsüdür?

- A) Mihriban
- B) Kara Tren
- C) Leylim Ley
- D) Beyaz Gül Kırmızı Gül
- E) Uzun İnce Bir Yoldayım

23) Gece gündüz eşitliğine ne ad verilir?

- A) Dönence
- B) Ekinoks
- C) Paradoks
- D) Tutulma
- E) İzops

24) Osmanlı Devleti döneminde kişilerin soyadı yoktu. Bu durum kişilerin birbirleriyle ve devletle olan ilişkilerini zorlaştırıyordu.

Aşağıdakilerden hangisi toplumda meydana gelebilecek karışıklıkları önlemeye yönelik çıkarılan kanundur?

- A) Kabotaj kanunu
- B) Medeni kanun
- C) Soyadı kanunu
- D) Şapka kanunu
- E) Kadınlara seçme ve seçilme hakkının verilmesi

25) Türk Medeni Kanunu toplumda aşağıdakilerden hangisine yeni haklar getirmiştir?

- A) Çocuklara
- B) Kadınlara
- C) Yaşlılara
- D) Kimsesizlere
- E) Erkeklerle

26) Ülkemizde Hıristiyanlık, Musevilik gibi dinlere inanan kimseler bulunmaktadır. Onlar da herkes gibi, inançlarının gereklerini yerine getirebilmektedirler. Hiç kimse inancını açıklamaya zorlanmayı, inancından dolayı da kınanmamaktadır.

Bu durum Atatürk ilkelerinden hangisi ile doğrudan ilgilidir?

- A) Laiklik
- B) Milliyetçilik
- C) İnkılâpçılık
- D) Halkçılık
- E) Cumhuriyetçilik

27) Padişahlık yönetiminin kaldırılması ile ilgili ilke aşağıdakilerden hangisidir?

- A) Halkçılık
- B) Laiklik
- C) Milliyetçilik
- D) Cumhuriyetçilik
- E) İnkılâpçılık

28) Türkiye'nin en uzun tüneli aşağıdakilerden hangisidir?

- A) Zigana Tüneli
- B) Eğribel tüneli
- C) Ovit Tüneli
- D) Nefise Akçelik Tüneli
- E) Kop Tüneli

29) Aşağıdakilerin hangisi çekirdek ailenin üyelerinden biri değildir?

- A) Baba
- B) Anne
- C) Çocuk
- D) Kardeş
- E) Dede

30) Aşağıdakilerden hangisi Cumhuriyet yönetiminin özellikleri arasında yer almaz?

- A) Tüm insanlar eşit haklara sahiptir.
- B) Yönetim babadan oğla geçer.
- C) İnsan haklarına saygı esastır.
- D) Halkın kendi kendini yönetebilir.
- E) Hukuk üstünlüğü her şeyden önce gelir.

TEST BİTTİ.

CEVAPLARINIZI KONTROL EDİNİZ.