

**ENGELLİ KAMU PERSONELİ SEÇME SINAVI (E-KPSS)
ORTAÖĞRETİM
DENEME: 7**

T.C. KİMLİK NUMARASI :

ADI :

SOYADI :

SALON NO :

SIRA NO.

Soru kitapçığı numarasının cevap kâğıdına kodlanmamasının veya yanlış kodlanmasının sorumluluğu adaya aittir.

**SORU KİTAPÇIK
NUMARASI**

58000058

**Bu numarayı cevap
kağıdınızdaki ilgili alana
kodlamayı unutmayınız**

DİKKAT: SINAV BAŞLAMADAN ÖNCE AŞAĞIDAKİ UYARILARI MUTLAKA OKUYUNUZ.

1. T.C. Kimlik numaranızı, Adınızı, Soyadınızı, Salon Numaranızı ve Sıra Numaranızı, Soru Kitapçığı üzerindeki ilgili alanlara yazınız.
2. Soru Kitapçık Numaranız yukarıda verilmiştir. Bu Numarayı Cevap Kağıdınızdaki ilgili alana kodlayınız. Salon görevlisinin de hem soru kitapçığındaki, hem de cevap kağıdınızdaki ilgili alanları imzalamasını sağlayınız. Bu kodlamayı cevap kağıdınıza yapmadığınız takdirde, sınavınızın değerlendirilmesi mümkün değildir.
3. Bu sayfanın arkasında yer alan açıklamaları dikkatle okuyunuz.

Adayın İmzası:

Soru Kitapçık Numarasını Doğru Kodladım.

Salon Görevlisinin İmzası:

Adayın soru kitapçık numarasını cevap kağıdına doğru kodladığını onaylıyorum.

GENEL YETENEK TESTİ

Bu test 30 sorudan oluşmaktadır.

1) "Aşağıdaki sözcüklerden hangisi alfabe de diğerlerinden önce gelir?"

- A) Elma
- B) Armut
- C) Muz
- D) Çilek
- E) Portakal

2) Aşağıdaki cümlelerin hangisinde ön ad (sıfat) yoktur?

- A) Uzun yol hepimizi yordu.
- B) Sarı gömlek ona çok yakışmış.
- C) Marketten on tane yumurta aldım.
- D) Pazardan kırmızı elma aldım.
- E) Bizim okul çok güzel.

3) Aşağıdaki cümlelerin hangisinde altı çizili sözcük eş sesli değildir?

- A) Bu yıl ocak ayı çok soğuk oldu.
- B) Yerler yaş olduğu için ayağım kaydı.
- C) Okula servisle geldim.
- D) Dedem toprağı kazdı.
- E) Dilara ata bindi.

4) "Kırılmak" kelimesi aşağıdaki cümlelerin hangisi mecaz anlamda kullanılmıştır?

- A) Arkadaşıma çok kırıldım.
- B) Kalemimin ucu kırıldı
- C) Bardak elimden düşüp kırıldı.
- D) Masadan düşen tabak kırıldı.
- E) Fındık yerken dişim kırıldı.

5) Batuhan ve Deniz aynı mahallede oturuyorlardı. Batuhan dokuz, Deniz ise on yaşındaydı. Batuhan ve Deniz kısa boyluydu. Batuhan'ın ve Deniz'in iki kardeşi vardı. Batuhan ve Deniz derslerinde çok başarılıydı.

Batuhan ve Deniz'in farklı yönleri aşağıdakilerden hangisidir?

- A) Aynı mahallede oturmaları
- B) Derslerinin durumu
- C) Boyları
- D) Yaşları
- E) Kardeş sayıları

6) Aşağıdaki cümlelerin hangilerinde sebep sonuç ilişkisi yoktur?

- A) Okula geç kaldığım için ilk dersi kaçırdım.
- B) Kar yağdığı için okullar tatil edildi.
- C) Fırından üç tane ekmek aldım.
- D) Çok yürüdüğüm için ayaklarım şişti.
- E) Ali terli terli su içtiği için hasta oldu.

7) “Annem her gece bana masal anlatır” cümlesinde aşağıdaki sorulardan hangisinin cevabı yoktur?

- A) Ne?
- B) Niçin?
- C) Kim?
- D) Ne zaman?
- E) Kime?

8) 1. Gece geç saatlere kadar televizyon izler.

2. Doktora giderler ve doktor televizyon izlemesini yasaklar.

3. Sabah şiddetli bir göz ağrısıyla uyanır.

4. Ece, televizyon izlemesini çok sever.

Yukarıdaki verilenlerle bir paragraf oluşturmak istenseydi sıralama nasıl olur?

- A) 4 – 3 – 2 – 1
- B) 3 – 2 – 1 – 4
- C) 4 – 1 – 3 – 2
- D) 1 – 4 – 3 – 2
- E) 1 – 2 – 3 - 4

9) Aşağıdakilerden hangisinde, verilen heceler yer değiştirirse anlamlı bir sözcük oluşur?

- A) ya - ta - bar
- B) ça - la - ya
- C) dac - ka – pı
- D) man – si – dar
- E) ta – por – kal

10)

1. Turistler Topkapı Sarayı'na gittiler.
2. İnsan istedimi başarılı olur.
3. Senin notlarında fena değil.
4. Bugün Ayşe'lere misafir gelecek.
5. Hafta sonu Samsundan teyzem gelecek.

Yukarıdaki cümlelerin hangisinde yazım yanlışı yoktur?

- A) 1
- B) 2
- C) 3
- D) 4
- E) 5

11) Aşağıdaki cümlelerin hangisinde “Ben de aynı düşünceye katılıyorum” anlamı vardır.

- A) Söylediklerinizde bazı yanlışlıklar var.
- B) Ele aldığımız konuları iyice incelemelisiniz.
- C) Bu konuda sizinle aynı fikirde değilim.
- D) Düşüncelerinizin tutarsız olduğuna inanıyorum.
- E) Söyledikleriniz, doğrusu aklıma yattı.

12) Necip Fazıl KISAKÜREK, 26 Mayıs 1980’ de “ Şairler Sultanı “ seçildi.

Altı çizili sözcük cümlelerin hangi ögesidir.

- A) Dolaylı tümleş
- B) Nesne
- C) Özne
- D) Zarf tümleci
- E) Yüklem

13) “Okumak” sözcüğü aşağıdaki cümlelerin hangisinde farklı bir anlamda kullanılmıştır?

- A) Her gün kitap okurum.
- B) Yazıların çok okunmuyor.
- C) Bu zorluklar canımı okudu.
- D) Yazdığı şiirleri ben de okudum.
- E) Onun denemeleri okumaya değer.

14 ve 15. soruları aşağıdaki metne göre cevaplayınız.

Vatan; üzerinde doğup büyüdüğümüz, toprağından, suyundan, yer altı ve yer üstü zenginliklerinden faydalandığımız, havasını soluduğumuz toprak parçasıdır. Türk ulusunun fertlerini birbirine bağlayan kuvvetli bağlar, vatan birliği ve vatan sevgisidir.

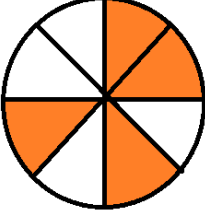
14) Bu parçada aşağıdaki sorulardan hangisinin cevabı vardır?

- A) Atalarımız vatanımızı kurtarmak için ne yapmıştır?
- B) Vatan nedir?
- C) Yurdumuzun doğal güzellikleri nelerdir?
- D) Yurdumuzun tarihi güzellikleri nelerdir?
- E) Vatanımız neresidir?

15) Türk ulusunun fertlerini birbirine bağlayan kuvvetli bağlar nelerdir?

- A) Sevgi bağları
- B) Kader bağları
- C) Kan bağı
- D) Vatan birliği ve vatan sevgisi
- E) İnsan sevgisi

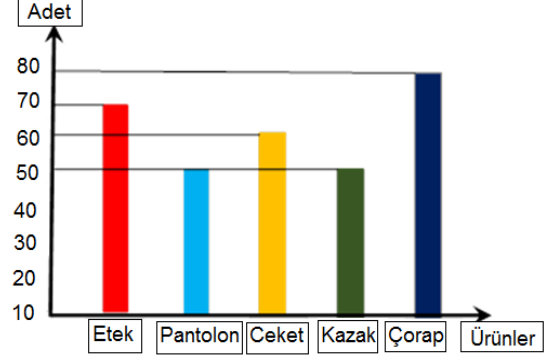
16) Aşağıdaki şekil eş dilimlere bölünmüştür.



Buna göre, taralı kısmı gösteren kesir aşağıdakilerden hangisidir?

- A) $\frac{1}{2}$
- B) $\frac{2}{3}$
- C) $\frac{2}{2}$
- D) $\frac{4}{5}$
- E) $\frac{1}{3}$

17, 18 ve 19. soruları aşağıdaki metne göre cevaplayınız.



Yukarıdaki grafikte bir giyim mağazasında, bir günde satılan ürünlerin miktarı verilmiştir.

17) Aynı miktarda satılan ürünler hangileridir?

- A) Etek - Kazak
- B) Pantolon - Kazak
- C) Ceket - Çorap
- D) Kazak - Ceket
- E) Pantolon - Etek

18) Mağazada en çok hangi ürün satılmıştır?

- A) Ceket
- B) Etek
- C) Çorap
- D) Pantolon
- E) Kazak

19) Mağazada toplam kaç ürün satılmıştır?

- A) 330
- B) 320
- C) 325
- D) 315
- E) 310

20) Okunuşu "sıfır tam onda sekiz" olan ondalık kesir aşağıdakilerden hangisidir?

- A) 0,08
- B) 0,8
- C) 8,8
- D) 8,0
- E) 0,88

21) Yağmur 8 yaşındadır. Annesinin yaşı Yağmur'un yaşının 4 katından 5 fazladır. İkisinin yaşları toplamı kaçtır?

- A) 45
- B) 56
- C) 48
- D) 92
- E) 24

22)

$$\frac{\frac{3}{3} + 3}{2} = ?$$

Yukarıdaki işlemin sonucu kaçtır?

- A) $\frac{1}{2}$
- B) $\frac{2}{2}$
- C) $\frac{2}{1}$
- D) $\frac{2}{3}$
- E) $\frac{1}{3}$

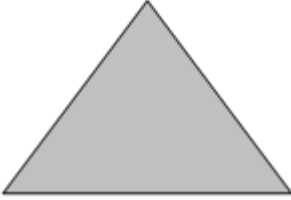
23) Saat 22.00 da uyuyan bir öğrenci sabah saat 07.00 ' da uyanıyor. Buna göre öğrenci kaç saat uyumuştur?

- A) 8 saat
- B) 7 saat
- C) 5 saat
- D) 9 saat
- E) 6 saat

24) 950 gram fıncığın 130 gramını Cengiz, 110 gramını Eren, 75 gramını Murat yemiştir. Geriye kaç gram fıncık kalmıştır?

- A) 742
- B) 635
- C) 698
- D) 702
- E) 451

25)



Yukarıdaki eşkenar üçgenin çevresi 312 cm'dir. Buna göre bir kenar uzunluğu aşağıdakilerden hangisidir?

- A) 956
- B) 568
- C) 119
- D) 227
- E) 104

26)

$$\begin{array}{r} 3A \\ + B2 \\ \hline 59 \end{array}$$

Yukarıdaki toplama işlemine göre

A x B kaçtır?

- A) 45
- B) 14
- C) 63
- D) 72
- E) 100

27)



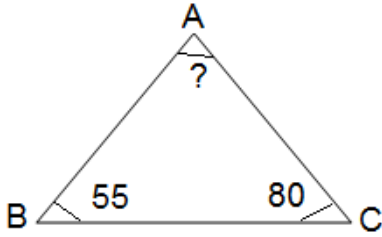
Yukarıdaki sayı örüntüsünün kuralı aşağıdakilerden hangisidir?

- A) Sayılar 2'er artarak sıralanmıştır.
- B) Sayılar 2'er azalarak sıralanmıştır.
- C) Sayılar 3'er artarak sıralanmıştır.
- D) Sayılar 3'er azalarak sıralanmıştır.
- E) Sayılar 4'er artarak sıralanmıştır.

28) 5942 doğal sayısının binler basamağındaki rakam ile onlar basamağındaki rakam yer değiştirirse yeni oluşacak sayı aşağıdakilerden hangisidir?

- A) 5924
- B) 9552
- C) 4952
- D) 2594
- E) 9254

29)



Yukarıdaki üçgenin \hat{A} açısının değeri aşağıdakilerden hangisidir?

- A) 45
- B) 48
- C) 57
- D) 69
- E) 84

30)

En Çok Sevilen Spor Dallarını						
Basketbol						
Futbol						
Voleybol						
Her şekil 5 öğrenciyi göstermektedir.						

Yukarıdaki şekle göre futbol oynayan öğrenci sayısı ile voleybol oynayan öğrenci sayısı arasındaki fark aşağıdakilerden hangisidir?

- A) 15
- B) 32
- C) 20
- D) 45
- E) 74

GENEL YETENEK TESTİ BİTTİ
GENEL KÜLTÜR TESTİNE GEÇİNİZ.

GENEL KÜLTÜR TESTİ

Bu test 30 sorudan oluşmaktadır.

- 1) Aşağıdakilerden hangisi Milli Mücadele döneminde Mustafa Kemal'in kongre düzenlediği şehirlerden biridir?
- A) Trabzon
B) Antalya
C) Manisa
D) Sivas
E) Şanlıurfa
- 2) TBMM tarafından atanmış, ili yöneten ve ilde en yüksek rütbeli olan kişi aşağıdakilerden hangisidir?
- A) Kaymakam
B) Vali
C) Muhtar
D) Başbakan
E) Müdür
- 3) Mustafa Kemal Atatürk'e "Kemal" adını aşağıdakilerden kim vermiştir?
- A) Öğretmeni
B) Annesi
C) Babası
D) Amcası
E) Okul Müdürü

- 4) Demokrasi kültürüne sahip insanlardan aşağıdaki davranışlardan hangisini yapması beklenir?
- A) Kanunlara uygun davranmaması
B) Cinsiyet ayrımı yapması
C) İnsanlara eşit davranması
D) Irk ayrımı yapması
E) Görev ve sorumluluklardan kaçması
- 5) İç Anadolu Bölgesi'nde en çok aşağıdakilerden hangisi yetişir?
- A) Zeytin
B) İncir
C) Tütün
D) Çay
E) Buğday
- 6) Aşağıdakilerden hangisi Mimar Sinan'ın eserlerinden biri değildir?
- A) Selimiye Cami
B) Süleymaniye Cami
C) Mihrimah Sultan Cami
D) Topkapı Sarayı Müzesi
E) Buruciye Medresesi

7) Yeni Türk Harflerinin kabulü Atatürk'ün hangi alanda yaptığı bir inkılâptır?

- A) Siyasal alanda yapılan inkılâp
- B) Toplumsal alanda yapılan inkılâp
- C) Eğitim alanında yapılan inkılâp
- D) Hukuk alanında yapılan inkılâp
- E) Ekonomi alanında yapılan inkılâp

8) "Türk Medeni Kanunu'nda, reşit olan bir kişinin dini tercihini yapabileceği ilkesine yer verilmiştir." Buna göre medeni kanun aşağıdaki ilkelerden hangisi ile doğrudan ilgilidir?

- A) Devletçilik
- B) Laiklik
- C) Milliyetçilik
- D) Halkçılık
- E) İnkılapçılık

9) Herhangi bir kişi veya gruba, ulusun genel hakları dışında ayrıcalık tanımamak aşağıdaki ilkelerden hangisinin gereğidir?

- A) Cumhuriyetçilik
- B) Milliyetçilik
- C) Laiklik
- D) Halkçılık
- E) İnkılapçılık

10) Yunanlıların İzmir'i işgal etmeleri aşağıdaki olayların hangisinde kararlaştırılmıştır?

- A) Mondros Ateşkes Antlaşmasında
- B) I.Dünya Savaşında
- C) Paris Barış Konferansında
- D) Amasya Genelgesi
- E) Sevr Antlaşmasında

11) Aşağıda verilen bilgilerden hangisi yanlıştır?

- A) Toplu taşıma araçlarına zarar verici davranışlar ülkemizi ekonomik zarara uğratar.
- B) Kimse görmüyorsa çöpümüzü yere atabiliriz
- C) Toplu taşıma araçlarına zarar verenleri uyarmak yapılması gereken bir davranıştır.
- D) Taşıtlarda yolculuk yapanlar, o taşıta zarar verici davranışlardan kaçınmalıdır.
- E) Toplu taşıma araçlarında hamilelere ve yaşlılara yer vermeliyiz.

12) Türk Milletinin dil, tarih, kültür gibi manevi değerlere sahip çıkmasını öngören, Atatürk ilkesi hangisidir?

- A) Milliyetçilik
- B) Cumhuriyetçilik
- C) Laiklik
- D) İnkılapçılık
- E) Devletçilik

13) Türk kadınına seçme ve seçilme hakkının tanınması, aşağıdaki ilkelerden hangilerinin doğrultusunda gerçekleşmiştir?

- A) Cumhuriyetçilik – Laiklik
- B) İnkılâpçılık – Halkçılık
- C) Devletçilik – Milliyetçilik
- D) Cumhuriyetçilik – Halkçılık
- E) Cumhuriyetçilik – Devletçilik

14) Aşağıdaki gelişmelerden hangisi Milliyetçilik ilkesi esasına dayanır?

- A) Aşarın vergisinin kaldırılması
- B) Örnek çiftliklerin kurulması
- C) Halifeliğin kaldırılması
- D) Güzel sanatlarda yenilikler yapılması
- E) Türk Dil Kurumunun kurulması

15) Aşağıdakilerden hangisi Türklerin Orta Asya'dan göç etmelerinin nedenlerinden biri değildir?

- A) Çin baskıları
- B) Boylar arasındaki mücadele
- C) Ekonomik düzeyin yüksek olması
- D) Ani iklim değişiklikleri ve kuraklık
- E) Salgın hayvan hastalıkları

16) İslamiyet öncesi Türk devletlerinde toplum düzenini sağlayan en üst kural aşağıdakilerden hangisidir?

- A) Kanun
- B) Yönetmelik
- C) Kararname
- D) Töre
- E) Kural

17) Uygurlara ait ilk Türk destanı aşağıdakilerden hangisidir?

- A) Türeyiş
- B) Dede Korkut
- C) Nasrettin Hoca
- D) Mevlana
- E) Noel Baba

18) Aşağıdakilerden hangisi temel ihtiyaçlarımızdan biri değildir?

- A) Sinemaya gitme
- B) Beslenme
- C) Barınma
- D) Giyinme
- E) Su içme

19) Aşağıdakilerden hangisi alışveriş yaparken dikkat etmemiz gereken davranışlardan biridir?

- A) Kalitesi bozuk malı satın almak
- B) Pahalı ürünleri satın almak
- C) Reklamı çok yapılan ürünleri almak
- D) Aldığımız malın son kullanma tarihine dikkat etmemek
- E) Aldığımız malın fişini veya faturasını istemek

20) Bir yerin kuşbakışı olarak kabataslak çizimine ne ad verilir?

- A) Harita
- B) Kroki
- C) Resim
- D) Ölçek
- E) Plan

21) Aşağıdakilerden hangisi kimlik belgesi olarak kullanılmaz?

- A) Pasaport
- B) Nüfus cüzdanı
- C) Kredi kartı
- D) Ehliyet
- E) Evlenme Cüzdanı

22) Aşağıdaki davranışlardan hangisi hoşgörülü bir insanın davranışı olamaz?

- A) Yardıma ihtiyacı olan Melih'e, Zafer'in yardım etmesi
- B) Kalemini evde unutan Sude'ye Eda'nın kalem vermesi.
- C) Sınıfta Ali'nin arkadaşlarının sözünü kesmeden dinlemesi
- D) Yaralanan Ülkü'ye ilk müdahaleyi yapan Selma'nın önemli bir şey yapmadığını söylemesi.
- E) Mert'in başkalarının duygu ve düşüncelerini önemsememesi.

23) Bir toplumda, eskiden kalmış kültürel kalıntıların, alışkanlıkların, bilgi, töre ve davranışların kuşaktan kuşağa aktarılmasına ne ad verilir?

- A) Dil
- B) Gelenek
- C) Söz
- D) Hareket
- E) Tarih

24) Aşağıdakilerden hangisi sosyal ihtiyaçlardan biridir?

- A) Yemek yemek.
- B) Gömlek giymek
- C) Barınmak
- D) Tiyatroya gitmek
- E) Yiyecek alışverişi yapmak

25) Çevreyi koruma konusunda Uluslararası işbirliğini sağlamak amacıyla kurulan örgütün adı aşağıdakilerden hangisidir?

- A) UNEP
- B) UNESCO
- C) WHO
- D) UNİCEF
- E) WHİLE

26) Türkiye'nin ilk seri üretim yapan Robot fabrikası Akın Robotics hangi şehrimizdedir?

- A) Konya
- B) Samsun
- C) İstanbul
- D) Antalya
- E) Sinop

27) "Vatan Yahut Silistre" isimli tiyatro eseri aşağıdaki yazarlarımızdan hangisine aittir?

- A) Reşat Nuri GÜNTEKİN
- B) Peyami SAFA
- C) Namık KEMAL
- D) Yaşar KEMAL
- E) Halide Edip ADIVAR

28) Kişi Hakları arasında aşağıdakilerden hangisi yoktur?

- A) Kişi dokunulmazlığı
- B) Kişi özgürlüğü ve güvenliği.
- C) Özel hayatın gizliliği.
- D) Konut dokunulmazlığı
- E) Bağırarak Konuşma hakkı

29) Aşağıdakilerden hangisi ana yönlerden biri değildir?

- A) Kuzey
- B) Doğu
- C) Güneybatı
- D) Güney
- E) Batı

**30) Herhangi bir kaza durumunda
112 Acil Yardım Merkezini
aradığımızda nasıl
davranmalıyız?**

- A) Doktordan başka kimseye yaralılar hakkında bilgi vermemeliyiz.
- B) Kendimizi tanıtmalı ve kaza yeri, kazazedelerin sayısı, durumu hakkında kısa öz bilgi vermeliyiz.
- C) Olayı uzun uzun anlatmalıyız.
- D) Kazazedenin kimliğini saklamalıyız.
- E) Kim olduğumuzu söylememeliyiz.

**TEST BİTTİ.
CEVAPLARINIZI KONTROL
EDİNİZ.**