

ENGELLİ KAMU PERSONELİ SEÇME SINAVI (E-KPSS)
ORTAÖĞRETİM
DENEME: 4

T.C. KİMLİK NUMARASI :

ADI :

SOYADI :

SALON NO :

SIRA NO.

Soru kitapçığı numarasının cevap kâğıdına kodlanmamasının veya yanlış kodlanmasının sorumluluğu adaya aittir.

SORU KİTAPÇIK
NUMARASI

58000058

Bu numarayı cevap kağıdınızdaki ilgili alana kodlamayı unutmayınız

DİKKAT: SINAV BAŞLAMADAN ÖNCE AŞAĞIDAKİ UYARILARI MUTLAKA OKUYUNUZ.

1. T.C. Kimlik numaranızı, Adınızı, Soyadınızı, Salon Numaranızı ve Sıra Numaranızı, Soru Kitapçığı üzerindeki ilgili alanlara yazınız.
2. Soru Kitapçık Numaranız yukarıda verilmiştir. Bu Numarayı Cevap Kağıdınızdaki ilgili alana kodlayınız. Salon görevlisinin de hem soru kitapçığındaki, hem de cevap kağıdınızdaki ilgili alanları imzalamasını sağlayınız. Bu kodlamayı cevap kağıdınıza yapmadığınız takdirde, sınavınızın değerlendirilmesi mümkün değildir.
3. Bu sayfanın arkasında yer alan açıklamaları dikkatle okuyunuz.

Adayın İmzası:

Soru Kitapçık Numarasını Doğru Kodladım.

Salon Görevlisinin İmzası:

Adayın soru kitapçık numarasını cevap kağıdına doğru kodladığını onaylıyorum.

GENEL YETENEK TESTİ

Bu test 30 sorudan oluşmaktadır.

1) “Bu akşam bize misafir gelecek.”
Cümlesiyle aynı anlama gelen
cümle hangisidir?

- A) Bu akşam bize amcamlar gelecek.
B) Bu akşam bize teyzemler gelecek.
C) Bu akşam bize dayımlar gelecek.
D) Bu akşam bize halamlar gelecek.
E) Bu akşam bize konuk gelecek.

2) “Ertuğrul, kitabını okudu sonra onu
çantasına koydu” cümlesinde kaç
tane fiil vardır?

- A) 1
B) 3
C) 2
D) 4
E) 5

3) Altı çizili sözcüklerden hangisi
gerçek anlamıyla kullanılmıştır?

- A) Taylan kirli işlere burnunu
sokmuştu.
B) İnce davranışları ile onu etkilemişti.
C) Defne, renkli bir gün geçirdi.
D) Savaş döneminde kara sabahlar
başlamıştı.
E) Açık pencereden içeri hava girdi.

4) Aşağıdaki cümlelerin hangisinde
“beğenme” anlamı yoktur.

- A) Aman Allah’ım! Harika bir bebek.
B) Muhteşem bir kitap okuyorum.
C) Sınav tarihleri belli oldu.
D) Bu yemek çok lezzetli olmuş.
E) Yeni elbisen çok güzelmiş.

5) 1. ilan
2. yarın
3. cumhuriyet’i
4. edeceğiz
5. efendiler

Numaralandırılmış sözcüklerden
anamlı ve kurallı bir cümle
oluşturulmak istenirse doğru
sıralama nasıl olmalıdır?

- A) 5 - 1 - 3 - 4 - 2
B) 5 - 2 - 3 - 1 - 4
C) 1 - 2 - 3 - 4 - 5
D) 3 - 2 - 4 - 5 - 1
E) 2 - 1 - 4 - 3 - 5

6) Aşağıdakilerden hangisi kualsız
(devrik) cümledir.

- A) Yakın bir zamanda Bursa’ ya
dönecekler.
B) Misafirler ile geç saatlere kadar
oturduk.
C) Baban seninle gurur duyuyor.
D) Yapamadım bu sabah kahvaltı.
E) Seni gördüğüme çok mutlu oldum.

- 7) (1)Doğa fotoğrafçıları, doğal yaşam ortamlarındaki bütün canlıların yanı sıra dağlar, göller, akarsular gibi doğal oluşumların fotoğraflarını çekerler. (2)Doğa fotoğrafçısı olabilmenin en önemli şartlarından biri, doğayı sevmek ve fotoğrafçılığa ilgi duymaktır. (3)Doğa fotoğrafçıları bir yerin, bir varlığın fotoğraflarını çekerler. (4) Doğa fotoğrafçıları fotoğraf çekerken aynı zamanda kendilerinden de birşeyler eklerler.

Bu metin iki paragrafa ayrılmak istense, ikinci paragraf hangi numaralandırılmış cümle ile başlar?

- A) 1 B) 3
C) 2 D) 4
E) Hiçbiri

- 8) 'Kafası kazan gibi olmak' deyiminde verilmek istenen mesaj aşağıdakilerden hangisidir?

- A) Zihni yorulmak
B) Kafası büyümek
C) Kafası çalışmak
D) Kafası ateşlenmek
E) Hiçbiri

- 9) "İstediğiniz kıyafetleri dikerek sizin daha şık görünmenize yardımcı oluyorum. İğne ve iplik benim en büyük yardımcılarımdır."

Yukarıdaki sözleri söyleyen kişinin mesleği aşağıdakilerden hangisidir?

- A) Avukat
B) Öğretmen
C) Asker
D) Polis
E) Terzi

- 10) Güneş artık yerini bulutlara, sıcak hava da soğuklara bırakmıştır. Ağaçlar yapraklarını dökerken yağışlar hızlanır, fırtınalar görülür.

Bu parçada hangi mevsim anlatılmaktadır?

- A) Yaz
B) Sonbahar
C) İlkbahar
D) Kış
E) Hiçbiri

- 11) Başarılı olmanın sırları şunlardır ()
Dersi dikkatli dinleme () evde
tekrar etme () planlı çalışmadır ()

Yukarıdaki tümcede boş bırakılan yerler sırasıyla hangi noktalama işaretleri getirilmelidir?

- A) (;) (,) (,) (.)
B) (-) (?) (,) (?)
C) (.) (,) (,) (...)
D) (:) (,) (,) (.)
E) (:) (,) (:) (...)

- 12) Aşağıdakilerin hangisinde kısaltmaların yazımıyla ilgili bir yanlışlık vardır?

- A) Dayım DSİ'de çalışıyor.
B) TRT'de güzel bir film izledim.
C) Evimiz P.T.T'nin yanında.
D) Bu yıl EKPSS'ye gireceğim.
E) THY'den uçak bileti aldım.

- 13) Görkem ile babası markete gittiler.” Cümlesinde altı çizili kelimelerin yerine hangi zamir gelmelidir?

- A) Onlar
B) O
C) Siz
D) Biz
E) Ben

- 14) Köşedeki fırından gelen sıcak ekmeğin kokusu beni çocukluğuma götürdü. Babam erkenden sıcak ekmek alır annem, babam ve kardeşimle beraber kahvaltı yapardık. Ekmeğin üzerine tereyağı ve reçel sürmeyi çok severdim. Bu duygular içinde fırına gittim. Fırından yeni çıkmış taze ekmeklerin görüntüsü mükemmeldi. Hemen bir tane aldım. Ekmek sıcacıktı. Tıpkı çocukluğumdaki gibi ekmeğin üzerine tereyağı ve reçel sürdüm. Tadı mükemmeldi.

Bu parçada ayrıntıların seçiminde aşağıdaki duyuların hangisinden yararlanılmamıştır?

- A) Görme
B) İşitme
C) Koklama
D) Tatma
E) Dokunma

- 15) Pazartesi günü babaannem Balıkesir'den gelecek.”

Yukarıdaki cümlede kaç tane birleşik kelime kullanılmıştır?

- A) 1
B) 2
C) 3
D) 4
E) 5

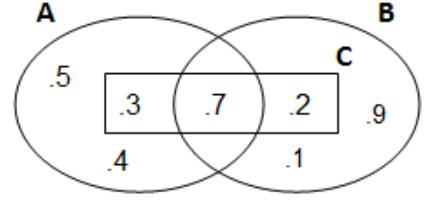
16) Dedem 75 yaşındadır, babamın yaşı da dedemin yaşının $\frac{3}{5}$ ' ü kadardır. Babam kaç yaşındadır?

- A) 25 B) 45
C) 40 D) 20
E) 50

17) Onlar basamağı 8 olan üç basamaklı en küçük doğal sayı aşağıdakilerden hangisidir?

- A) 180 B) 188
C) 108 D) 208
E) 280

18)



Yukarıdaki şekilde verilen kümelere göre, AUC kümesi aşağıdakilerden hangisidir?

- A) { 3, 7 }
B) { 3, 4, 5, 7 }
C) { 1, 3, 4, 5, 7 }
D) { 2, 3, 4, 5, 7 }
E) { 3, 7, 2, 9 }

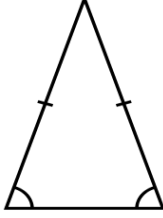
19) Bir pastane sabah 3000 tane poğaçaya satıyor. Öğlenden sonra ise sabah sattığından 200 fazla poğaçaya satıyor. Pastanede bir günde kaç tane poğaçaya satılıyor?

- A) 6200 B) 3200
C) 6300 D) 3500
E) 6000

20) Yusuf bu sene 22 yaşındadır. Yusuf 7 yıl sonra kaç yaşında olacaktır?

- A) 22 B) 27
C) 29 D) 25
E) 28

21)



İkizkenarlarından biri 25 cm ve farklı kenarı 18 cm olan ikizkenar üçgen şeklindeki kumaşın çevre uzunluğunu hesaplayınız.

- A) 68 B) 76
C) 42 D) 55
E) 70

22) Bir sınıfta 14 kız ve kızlardan 12 fazla erkek vardır. Buna göre sınıf mevcudu kaçtır?

- A) 21 B) 26
C) 38 D) 40
E) 50

23) Aşağıdaki çıkarma işleminde A, B ve C'nin değeri kaçtır?

$$\begin{array}{r} 24A6 \\ -B334 \\ \hline 112C \end{array}$$

- A) A=5 B=2 C=3
B) A=5 B=1 C=2
C) A=3 B=2 C=5
D) A=3 B=5 C=3
E) A=5 B=1 C=3

28) Bankada 547 lirası olan Bekir, parasının 259 lirasını harcıyor. Bekir'in kaç lirası kalmıştır?

- A) 300 TL
- B) 350 TL
- C) 288 TL
- D) 250 TL
- E) 275 TL

29) Aşağıdaki grafik, bir sınıftaki öğrenci sayısını göstermektedir. Bir şekil 2 kişiyi gösterdiğine göre, sınıftaki erkekler bayarlardan kaç kişi fazladır?



- A) 2
- B) 3
- C) 8
- D) 5
- E) 4

30) 82A üç basamaklı bir çift sayıdır. A yerine aşağıdakilerden hangisi yazılamaz?

- A) 0
- B) 1
- C) 2
- D) 4
- E) 6

GENEL YETENEK TESTİ BİTTİ
GENEL KÜLTÜR TESTİNE
GEÇİNİZ.

GENEL KÜLTÜR TESTİ

Bu test 30 sorudan oluşmaktadır.

1) Atatürk'ün yaptığı yeniliklerin tamamına ne ad verilir?

- A) İlkeler
- B) Yönetim
- C) İnkılap
- D) Laiklik
- E) Milliyetçilik

2) İstiklal Marşı TBMM tarafından ne zaman kabul edilmiştir?

- A) 1900
- B) 1916
- C) 1919
- D) 1921
- E) 1923

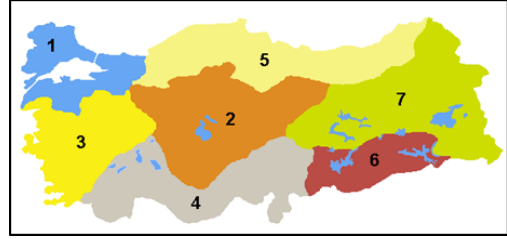
3) Aşağıdakilerden hangisi yasalarla belirlenmiş kurallara verilen addır?

- A) Hukuk kuralları
- B) Ahlak kuralları
- C) Görgü kuralları
- D) Din kuralları
- E) Örf ve adetler

4) İslamiyet öncesi Türk devletlerinde görülen ordu teşkilatlanmasında aşağıdakilerden hangisi yoktur?

- A) Ordu millet ahlayışı hâkimdir.
- B) Paralı askerlik görülmez.
- C) Ordunun temeli süvarilere dayanır.
- D) Orduda Çin örnek alınmıştır.
- E) İlk teşkilatlanma Mete Han döneminde gerçekleşmiştir.

5)



Yukarıdaki Türkiye haritasında numaralandırılan bölgelerden hangisinin eşleştirmesi yanlış yapılmıştır?

- A) 1-Marmara Bölgesi
- B) 2-İç Anadolu Bölgesi
- C) 3- Akdeniz Bölgesi
- D) 5-Karadeniz Bölgesi
- E) 7-Doğu Anadolu Bölgesi

6) "Türkiye Cumhuriyeti'ndeki her vatandaş din seçiminde özgürdür" sözü Atatürk'ün hangi ilkesi ile ilgilidir?

- A) İnkılapçılık
- B) Laiklik
- C) Cumhuriyetçilik
- D) Milliyetçilik
- E) Halkçılı

7) Türkiye'nin ilk kayak merkezi olan Uludağ Kayak Merkezi hangi ilimizdedir?

- A) Malatya
- B) Kayseri
- C) Sivas
- D) Bursa
- E) Erzurum

8) Her alanda devletin öncülük yapması, fabrikalar kurması, bankalar açması, yollar yapması, özellikle demiryolları yapımında büyük çaba göstermesi hangi alanda yapılan bir inkılâptır?

- A) Eğitim alanında
- B) Ekonomi alanında
- C) Sosyal alanda
- D) Hukuk alanında
- E) Siyasal alanında

9) Gezilerini 'Seyahatname' adlı eserde toplayan Türk gezgin kimdir?

- A) Mevlana
- B) Katip Çelebi
- C) Dede Korkut
- D) Evliya Çelebi
- E) Nasrettin Hoca

10) Osmanlı Devleti yönetim birimleri bakımından küçükten büyüğe doğru sıralaması aşağıdakilerden hangisidir?

- A) Karye-Nahiye-Kaza-Sancak-Vilayet
- B) Sancak-Vilayet-Kaza-Nahiye-Karye
- C) Vilayet-Sancak-Kaza- Nahiye-Karye
- D) Karye-Vilayet-Kaza-Sancak-Nahiye
- E) Kaza-Nahiye-Sancak-Karye-Vilayet

11) Ekonomik ilişkilerin kolaylaşması için aşağıdakilerden hangisi yapılmıştır?

- A) Kılık Kıyafet Kanunu
- B) Türk Tarih Kurumu'nun açılması
- C) Türk Dil Kurumu'nun açılması
- D) Yeni ölçü birimlerine geçilmesi
- E) Eğitim alanında yapılan yenilikler

12) Türkiye hangi kıtada yer alır?

- A) Amerika-Avrupa
- B) Asya- Afrika
- C) Avrupa-Afrika
- D) Amerika- Avrupa
- E) Avrupa-Asya

13) Osmanlı toplumda demokratikleşme hareketlerinin başlangıcı hangi olayla başlamıştır?

- A) Meşrutiyetin İlanı
- B) Tanzimat Fermanı
- C) Nizamı Cedit Ordusunun Kurulması
- D) Islahat Fermanı
- E) Reform hareketleri

14) Yeni Türk Harflerinin kabulü Atatürk'ün hangi alanda yaptığı bir inkılâptır?

- A) Siyasal alanda yapılan inkılap
- B) Toplumsal alanda yapılan inkılap
- C) Eğitim alanında yapılan inkılap
- D) Hukuk alanında yapılan inkılap
- E) Ekonomi alanında yapılan inkılap

15) Milli mücadele yıllarında Mustafa Kemal;

- 1- Milliyetçilik
- 2- Laiklik
- 3- Bağımsızlık

İlkelerinden hangisini halka aşılama öncelikli hedef olarak görmüştür?

- A) Yalnız 1
- B) Yalnız 2
- C) Yalnız 3
- D) 1-2
- E) 2-3

16)

- * Tekke ve türbelerin kapatılması
- * Saltanatın kaldırılması
- * Şapka inkılabı
- * Kadınlara seçme ve seçilme hakkının verilmesi
- * Beş yıllık kalkınma planının uygulanması

Yukarıdaki yeniliklerle inkılâpları eşleştirdiğimizde hangi ilke açıkta kalır?

- A) Cumhuriyetçilik
- B) Laiklik
- C) İnkılâpçılık
- D) Milliyetçilik
- E) Devletçilik

17) Abant Göl'ünün çevresinde yalnızca gezinmedik. Günlerimizi ormanda, dağda geçirdik. Akşamları da dağın yamacındaki evde kaldık.

Yukarıdaki metinde beşeri unsur hangisidir?

- A) Orman
- B) Dağ
- C) Ev
- D) Göl
- E) Yamaç

18) Aşağıdakilerden hangisi milletvekili seçilme şartlarında değildir?

- A) 18 yaşında olmak
- B) Türk vatandaşı olmak
- C) Askerlik hizmetini yapmış olmak
- D) Kamu hizmetlerinden yasaklı olmamak
- E) Lise mezunu olmak

19) Osmanlı Devleti'nin dağılma döneminde ortaya çıkan fikir akımlarının ortak yönü aşağıdakilerden hangisidir?

- A) Yeni bir Türk Devleti kurmak
- B) Fikir akımlarıyla insanları etkilemek
- C) Osmanlı Devleti'nin dağılmasının ve parçalanmasının önüne geçmek
- D) Düşman devletlere karşı savaş açmak
- E) Yeni bir gazete çıkarmak

20) Doğal afet sonrasında halka aşağıdakilerden hangisi yardım eder?

- A) Kızılay
- B) Yeşilay
- C) TEMA
- D) LÖSEV
- E) TEGEV

21) Osmanlı Sultanlarının kullandığı Unvanlar arasında aşağıdakilerden hangisi yoktur?

- A) Han
- B) Hüdavendigâr
- C) Sultan
- D) Bey
- E) Otağ

22) Tüketici Hakları Evrensel Beyanamesi'ne göre; beslenme, barınma, temel sağlık koşul ve hizmetlerinden yararlanabilme, ısınma, aydınlanma, ulaşım, haberleşme gibi haklar hangi hakları oluşturur?

- A) Temel ihtiyaçların karşılanması hakkı
- B) Sağlık ve güvenliğin korunması hakkı
- C) Ürün seçebilme hakkı
- D) Ürün seçebilme hakkı
- E) Sosyal ihtiyaçların karşılanması hakkı

23) Aşağıdakilerden hangisi bilinçli tüketicinin yapacağı davranışlardan biri değildir?

- A) Ürünlerin son kullanım tarihine bakmak.
- B) Alışverişten son fiş ve fatura almak.
- C) Markalarına göre ürün almak.
- D) TSE damgalı ürün almak
- E) Alışverişten sonra garanti belgesi almak.

24) Aşağıdaki trafik levhasının anlamı nedir?



- A) Yaya geçidi
- B) Okul geçidi
- C) Bisiklet geçidi
- D) Yaya giremez
- E) Araç giremez

25) Evlerin ve fabrikaların bacalarından çıkan duman, araçların egzoz gazındaki zararlı maddelerin havaya karışması ile..... oluşur.

Yukarıdaki boşluğa aşağıdakilerden hangisi gelmelidir?

- A) Toprak kirliliği
- B) Hava kirliliği
- C) Su kirliliği
- D) Beden kirliliği
- E) Ev kirliliği

26) “Eğil, kapan, tutun pozisyonu” hangi doğal afet sırasında yapılmalıdır?

- A) Sel
- B) Deprem
- C) Çığ
- D) Toprak kayması
- E) Tsunami

27) Aşağıdakilerden hangisi Selçuklularda divanın üyelerinden biridir?

- A) Veziri Azam
- B) Vezir
- C) Şeyhülislam
- D) Yeniçeri
- E) Tuğracı

28) Aşağıdakilerden hangisi kişisel iletişim araçlarından biridir?

- A) Televizyon
- B) Mektup
- C) Gazete
- D) Radyo
- E) İnternet

29) Aşağıdakilerden hangisi trafik kazalarının nedenlerinden biri değildir?

- A) Dikkatli araç kullanmak
- B) Alkolü olarak araç kullanmak
- C) Yoldaki bozukluklar
- D) Yayaların kurallara uygun davranmaması
- E) Uykusuz araç kullanmak

30) Osmanlı Devleti kaybettiği toprakları geri almak amacıyla I. Dünya Savaşı'na girmiştir.

Buna göre Osmanlı Devleti;

- I. Merkezi otoriteyi güçlendirmeyi amaçlamaktadır.
- II. Sömürge ağını genişletmek istemektedir.
- III. Balkan topraklarını tekrar ele geçirmek istemektedir.

Yargılarından hangilerini gerçekleştirme amacıyla değildir?

- A) Yalnız I
- B) Yalnız II
- C) I ve II
- D) II ve III
- E) I ve III

TEST BİTTİ.

CEVAPLARINIZI KONTROL EDİNİZ.