

ENGELLİ KAMU PERSONELİ SEÇME SINAVI (E-KPSS)
ORTAÖĞRETİM
DENEME:3

T.C. KİMLİK NUMARASI :

ADI :

SOYADI :

SALON NO :

SIRA NO.

Soru kitapçığı numarasının cevap kâğıdına kodlanmamasının veya yanlış kodlanmasının sorumluluğu adaya aittir.

SORU KİTAPÇIK
NUMARASI

58000058

Bu numarayı cevap
kağıdınızdaki ilgili alana
kodlamayı unutmayınız

DİKKAT: SINAV BAŞLAMADAN ÖNCE AŞAĞIDAKİ UYARILARI MUTLAKA OKUYUNUZ.

1. T.C. Kimlik numaranızı, Adınızı, Soyadınızı, Salon Numaranızı ve Sıra Numaranızı, Soru Kitapçığı üzerindeki ilgili alanlara yazınız.
2. Soru Kitapçık Numaranız yukarıda verilmiştir. Bu Numarayı Cevap Kağıdınızdaki ilgili alana kodlayınız. Salon görevlisinin de hem soru kitapçığındaki, hem de cevap kağıdınızdaki ilgili alanları imzalamasını sağlayınız. Bu kodlamayı cevap kağıdınıza yapmadığınız takdirde, sınavınızın değerlendirilmesi mümkün değildir.
3. Bu sayfanın arkasında yer alan açıklamaları dikkatle okuyunuz.

Adayın İmzası:

Soru Kitapçık Numarasını Doğru Kodladım.

Salon Görevlisinin İmzası:

Adayın soru kitapçık numarasını cevap kağıdına doğru kodladığını onaylıyorum.

Bu kitapçık, Sivas - Merkez Ahmet Kutsi Tecer Özel Eğitim Meslek Okulu Müdürlüğünce, Toplum Hizmeti faaliyetleri çerçevesinde yürütülen "Birlikte Başarıyoruz Projesi" kapsamında, ülkemiz genelinde faaliyet gösteren Özel Eğitim Meslek Okullarında öğrenim gören öğrenciler için hazırlanmıştır.

GENEL YETENEK TESTİ

Bu test 30 sorudan oluşmaktadır.

1) Aşağıdaki cümlelerin hangisinde zıt (karşıt) anlamlı kelimeler bir arada kullanılmamıştır?

- A) Dolu sürahidен boş bardağa su koy.
- B) Kara saçlarına aklar düştü
- C) Çağdaş otobüsle Ankara'ya gitti.
- D) Büyük küçük herkes saygılı olmalı.
- E) Sen ağlama hep gül.

2) Dede, torununa sormuş ()
 –Dünya'da Sivas'tan daha güzel bir yer var mı ()
 Torunu şöyle karşılık vermiş ()
 –Olduğunu sanmıyorum ()

Parçada yay ayraçla belirtilen yerlere sırasıyla aşağıdaki noktalama işaretlerinden hangileri getirilmelidir?

- A) (;) (?) (:) (!)
- B) (:) (?) (:) (.)
- C) (;) (!) (.) (!)
- D) (:) (!) (,) (,)
- E) (.) (?) (,) (.)

3) “..... marketten kardeşime süt aldım amasütü içmedi.”

Noktalı yerlere sırasıyla aşağıdaki zamirlerden hangileri gelmelidir?

- A) Ben – O
- B) Sen – Ben
- C) Sen – O
- D) Biz – Siz
- E) Onlar – Biz

4) Aşağıdaki cümlelerden hangisinde yazım yanlışı yapılmıştır?

- A) Kardeşim 17 Mayıs'ta doğdu.
- B) 19 ocak 2019 cuma günü karneleri aldık.
- C) Sen de bizimle gelsene.
- D) Herkes buraya geldi.
- E) Teyzem yarın ABD'den gelecek.

5) Aşağıdaki seçeneklerin hangisinde cansız bir varlığın betimlemesi yapılmıştır?

- A) Kırmızı, beyaz, pembe gülleri var. Hepsi çok güzel kokuyor. Güzelliğiyle bahçeleri ve balkonları süslüyor.
- B) Sapsarı saçları, kahverengi gözleri var. Burnu minicik, yanakları pespembe.
- C) Ahşaptan yapılmış. Kare şeklinde. Bir ayağı diğerlerine göre biraz kısa. O yüzden dengede dursun diye kısa ayağının altına küçük bir tahta parçası koyulmuş.
- D) En dikkat çekici yeri uzun kahverengi kuyruğu. Bir gözü yeşil diğer gözü mavi. Süt içmeyi çok seviyor.
- E) Kanat çırparak gökyüzünde süzülüyor. Tüyleri bakır renginde. Ağaçların üzerine yuva yapıyor.

6, 7 ve 8. Soruları aşağıdaki parçaya göre cevaplayın.

Sabah erkenden uyanıp, şehrin sokaklarında uzun bir yürüyüş yaptık. Temiz hava hepimize iyi gelmişti. Acıktığımızı fark ettik. Meydanda bir çay bahçesinde, simit ve çayla kahvaltımızı yaptık. Şehrin tarihi eserlerini gezdik. Yöresel kıyafetlerini ve yemeklerini öğrendik. Etli ekmek yedik. Çok sevdik.

6) Sabah uyanınca ilk olarak ne yapmışlar?

- A) Elini yüzünü yıkamış.
- B) Yorganı kafasına çekmiş
- C) Simit yemişler.
- D) Şehrin sokaklarında uzun bir yürüyüş yapmışlar.
- E) Çay bahçesine gitmişler.

7) Gittikleri şehirde hangi yemeği yemişler?

- A) Manti
- B) Karnıyarık
- C) Çorba
- D) Etli ekmek
- E) Pilav

8) Şehrin nerelerini gezmişler?

- A) Tarihi eserlerini
- B) Çarşısını
- C) Sahilini
- D) Kalesini
- E) Parklarını

- 9) Köstebek sürekli toprak altında yaşar. Kış uykusuna yatmaz. En sevdiği yiyecek toprak solucanıdır. Kışın aç kalmamak için çok sayıda solucan biriktirir.

Metne en uygun başlık aşağıdakilerden hangisidir?

- A) Su altı canlıları
B) Solucanlar
C) Köstebekler
D) Doğamız
E) Böcekler

- 10) "Hayal gücü, bilgidan daha değerlidir" demiş, Albert Einstein.

Bu sözle anlatılmak istenen aşağıdakilerden hangisidir?

- A) Hayal kurmak çok güzeldir.
B) Hayal kurarken gerçekleri unuturuz.
C) Hayal kurarken bilgi edinmek zorunda kalmayız.
D) Bilgi sınırlıdır, hayallerin sınırı yoktur.
E) Hiçbiri

- 11) "Çok eskiden beri bu mahallede oturuyoruz."

Yukarıdaki cümleden hangi sözcük çıkarılırsa cümlenin anlamı değişmez?

- A) çok
B) beri
C) bu
D) mahalle
E) eskiden

- 12) 1- dinlendirir
2- okumak
3- ruhu
4- kitap

Yukarıdaki sözcüklerle anlamlı ve kurallı bir cümle oluşturulursa sıralama nasıl olur?

- A) 4-2-3-1
B) 1-3-2-4
C) 3-4-1-2
D) 2-1-4-3
E) 1-4-2-3

13) Aşağıdaki altı çizili sözcüklerden hangisi somut anlamlı bir sözcüktür?

- A) Büyüklerimize karşı saygılı olmalıyız.
 B) Anne sevgisi en yüce sevgidir.
 C) Dün gece korkunç bir rüya gördüm.
 D) Hayvanlara karşı merhametli davranmalıyız.
 E) Müzik öğretmenimiz kitabını masaya bıraktı.

14) Aşağıdaki cümlelerden hangisinin yüklemi bir deyimden oluşmuştur.

- A) Matematik dersinde büyük başarı gösteriyor.
 B) Türk milleti çalışkandır.
 C) Yaptığı pasta çok güzel olmuştu.
 D) Annesinin geldiğini duyunca havalara uçtu.
 E) Gözleri güneşten kızarmıştı.

15) "Çocuğu hastalandığı için üç gündür uyku uyuyamıyordu."

Cümlesinde hangi sözcük gereksiz kullanılmıştır?

- A) uyku
 B) gündür
 C) üç
 D) için
 E) çocuğu

16) Aşağıdaki eşleştirmelerden hangisi doğrudur?

- A) 2 yarım dan 8 bütün oluşur.
 B) 4 yarım dan 2 bütün oluşur.
 C) 6 yarım dan 9 bütün oluşur.
 D) 12 çeyrekten 8 bütün oluşur.
 E) 10 bütünden 5 yarım oluşur.

17) Eksileni 943, fark 152 olan çıkarma işleminde çıkan kaçtır?

- A) 358
 B) 546
 C) 791
 D) 658
 E) 1285

18) Saat 8'i 20 geçe yelkovan hangi sayıyı gösterir?

- A) 3
 B) 4
 C) 5
 D) 8
 E) 6

19) Kısa kenar uzunluğu 12 m uzun kenar uzunluğu 32 m olan dikdörtgen şeklindeki bahçemizin alanı kaç metrekaredir?

- A) 384
B) 380
C) 400
D) 350
E) 450

20) Annem haftada 5 litre süt alıyor. Bir ayda kaç litre süt tüketiyoruz?

- A) 35
B) 28
C) 32
D) 150
E) 20



21)

6 kg

150 kg

750 kg

Yukarıda verilen değerlere göre aşağıdaki ifadelerden hangisi yanlıştır?

- A) Tavşanın ağırlığı kurdun ağırlığına eşittir.
B) Ayı en ağır olan hayvandır.
C) En hafif olan hayvan tavşandır.
D) Tavşan ve ayının ağırlıkları toplamı 756 kg dır
E) Ayının ağırlığı kurdun ağırlığının 5 katıdır.

22) 75'ten başlayarak geriye doğru beşer ritmik sayıldığında (?) bulunan yere aşağıdaki sayılardan hangisi gelmelidir?

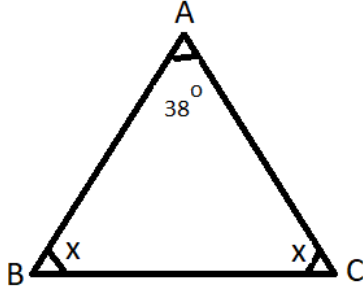
75								?
----	--	--	--	--	--	--	--	---

- A) 12
B) 15
C) 45
D) 40
E) 20

23) Bir deste kalem bir düzine kalemden kaç eksiktir?

- A) 1
B) 5
C) 12
D) 10
E) 2

24)



ABC bir üçgen.

$$m(\text{BAC}) = 38^\circ$$

$$m(\text{ABC}) = m(\text{ACB}) = x$$

Yukarıdaki verilere göre, x kaç derecedir?

- A) 58 B) 45
C) 71 D) 20
E) 82

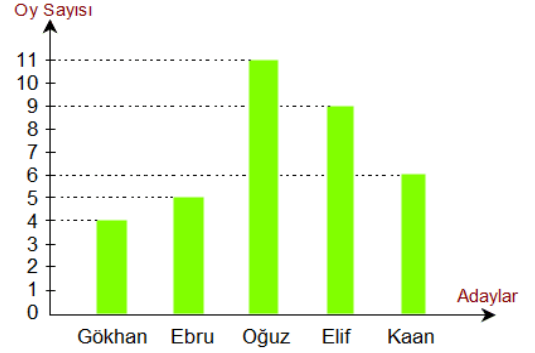
25)

Sınıflar	Erkek öğrenci	Kız öğrenci
2-A	12	13
2-B	15	18

Yukarıdaki tabloya göre 2.sınıflardan kız ve erkek öğrenci sayıları verilmiştir. Buna göre kız öğrencilerin toplamı erkek öğrencilerin toplamından kaç fazladır?

- A) 4 B) 11
C) 10 D) 9
E) 15

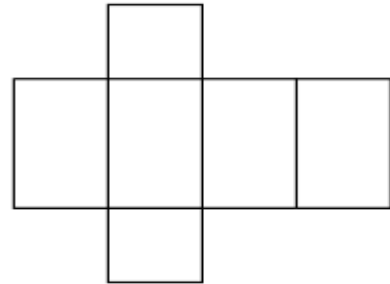
26)



Yukarıdaki grafikte sınıfımızda başkan adayı olan öğrencilerin oy dağılımı görülmektedir. Buna göre hangi öğrenciler başkan ve başkan yardımcısı seçilmiştir?

- A) Kaan-Gökhan
B) Elif -Ebru
C) Oğuz-Elif
D) Oğuz-Gökhan
E) Ebru-Kaan

27) Aşağıda açılımı verilen geometrik şekil aşağıdakilerden hangisidir?



- A) Kare prizma
B) Üçgen prizma
C) Koni
D) Silindir
E) Dikdörtgen prizması

28) Hangisinin iç açıları toplamı 180^0 dir?

- A) Koni
- B) Üçgen
- C) Kare
- D) Dikdörtgen
- E) Silindir

29) 3 binlik + 4 yüzlük + 0 onluk + 0 birlik olan sayı aşağıdakilerden hangisidir?

- A) 3400
- B) 3040
- C) 3041
- D) 3004
- E) 3014

30) Ahmet'in yaşı Elif'in yaşından 5 fazladır. Ahmet 5 yıl sonra 15 yaşında olacağına göre Ahmet'le Elif'in şimdiki yaşları toplamı kaçtır?

- A) 18
- B) 10
- C) 15
- D) 21
- E) 13

GENEL YETENEK TESTİ BİTTİ
GENEL KÜLTÜR TESTİNE
GEÇİNİZ.

GENEL KÜLTÜR TESTİ

Bu test 30 sorudan oluşmaktadır.

1) Ülkemizin en yüksek dağı olan Ağrı Dağı hangi bölgemizedir?

- A) İç Anadolu Bölgesi
- B) Marmara Bölgesi
- C) Ege Bölgesi
- D) Doğu Anadolu Bölgesi
- E) Karadeniz Bölgesi

2) Aşağıdaki gelişmelerden hangisi Milliyetçilik ilkesi esasına dayanır?

- A) Türk Dil Kurumunun kurulması
- B) Aşarın vergisinin kaldırılması
- C) Örnek çiftliklerin kurulması
- D) Halifeliğin kaldırılması
- E) Güzel sanatlarda yenilikler yapılması

3) Kıbrıs Barış Harekâtı hangi yıl yapılmıştır?

- A) 1970
- B) 1971
- C) 1974
- D) 1980
- E) 2012

4) Din ve devlet işlerinin birbirinden ayrılması Atatürk'ün hangi ilkesiyle doğrudan ilişkilidir?

- A) Devletçilik
- B) Cumhuriyetçilik
- C) Halkçılık
- D) İnkılâpçılık
- E) Laiklik

5) Türk medeni kanunu hangi devletin kanunu örnek alınarak hazırlanmıştır?

- A) İsviçre
- B) İsveç
- C) Almanya
- D) Fransa
- E) İngiltere

6) Doğu Karadeniz Bölgesi'nde faaliyet gösteren zararlı cemiyet aşağıdakilerden hangisidir?

- A) Trabzon Müdafa-i Hukuk Cemiyeti
- B) Mavri Mira
- C) Kilikyalılar Cemiyeti
- D) Pontus Rum Cemiyeti
- E) Hınçak-Taşnak

7) Aşağıdakilerden hangisi çocuk hastalığıdır?

- A) Nezle
- B) Grip
- C) Kabakulak
- D) Bunama
- E) Damar tıkanıklığı

8) Aşağıdakilerden hangisi sürüngen bir hayvan değildir?

- A) Yılan
- B) Kertenkele
- C) Timsah
- D) Solucan
- E) Tavuk

9) "Türk toplumunun ve devletin ekonomik ve sosyal kalkınmasını gerçekleştirmek için devlet işletmeciliği ile özel sektör işletmeciliğinin birlikte ve uyum içinde çalışmasıdır." sözleri Atatürk'ün aşağıdaki ilkelerinden hangisiyle ilgilidir?

- A) Laiklik
- B) Devletçilik
- C) Cumhuriyetçilik
- D) Halkçılık
- E) Milliyetçilik

10) Aşağıdakilerden hangisi hukuk alanında yapılan bir inkılaptır?

- A) Cumhuriyet'in ilanı
- B) Saltanatın kaldırılması
- C) Halifeliğin kaldırılması
- D) Türk Medeni Kanunun çıkarılması
- E) Yeni yolların yapılması

11) "Yurttaşlar devlet kurum ve kuruluşları ile ilgili istek ve şikâyetlerini bu hak yoluyla ilgili kurum ve kuruluşa bildirirler. Bu hak, hak arama özgürlüğünün bir şeklidir. Bu hak gereği başvurulara 60 gün içerisinde cevap verilmek zorundadır." İfadesi hangi insan hakkı ile ilgilidir?

- A) Eğitim Hakkı
- B) Sağlık Hakkı
- C) Temsil Hakkı
- D) Seçme Ve Seçilme Hakkı
- E) Dilekçe Hakkı

12) Kabotaj Kanunu ile ulaşılmak istenen amaç aşağıdakilerden hangisidir?

- A) Tarımı geliştirmek
- B) Sanayiye geliştirmek
- C) Milli Denizciliği geliştirmek
- D) Birinci beş yıllık kalkınma planı uygulamak
- E) Hiçbiri

13) Özel yaşamın sürdürüldüğü en önemli mekânlardan birisi de kişilerin yaşadığı konutlardır. Hâkim kararı olmadıkça kimsenin konutuna onun izni olmadan girilemez.” ifadesinde konut dokunulmazlığı hakkının nasıl korunduğu anlatılmaktadır?

- A) Özgürlüklerle
- B) Zorlamayla
- C) Kanunlarla
- D) Hakimlerle
- E) Emniyetle

14) Türklerin ana vatani neresidir?

- A) Orta Asya
- B) Orta Avrupa
- C) Afrika
- D) Amerika
- E) Hiçbiri

15) Kılık Kıyafet Kanunu ne amaçla çıkarılmıştır?

- A) Çağdaş giyime uygun hale getirmek
- B) Türkiye'nin İslamiyet'ten uzaklaştığını kanıtlamak
- C) Kıyafetleri dini inançlara göre yeniden düzenlemek
- D) Yönetimde laikleşmeyi sağlamak
- E) Hiçbiri

16) Aşağıdakilerden hangisi seçme-seçilme yaşı doğru verilmiştir?

- A) 20
- B) 18
- C) 25
- D) 30
- E) 15

17) Aşağıdakilerden hangisi Orta Asya'daki eski Türk mezarlarına verilen isimdir?

- A) Tümülüs
- B) Toprak
- C) Mezar taşı
- D) Kurgan
- E) Kabristan

18) Aşağıdakilerden hangisi Devletin vatandaşa karşı görevlerinden biri değildir?

- A) Halkın can ve mal güvenliğinden sorumludur.
- B) Toprak bütünlüğünün korunmasını sağlamalıdır.
- C) Sağlık, eğitim, elektrik vb. yakıt ve hizmetlerin sağlanması ile görevlidir.
- D) Halkın menfaati her zaman ön planda tutulmalıdır.
- E) 18 yaşına gelen her birey oy kullanmak zorundadır.

19) Aşağıdakilerden hangisi halifeliğin kaldırılması ile ilgili değildir?

- A) İnkılaplar hız kazanmıştır
- B) Osmanlı padişahını yurt dışına göndermişlerdir
- C) Laikliğin önündeki en önemli engel kaldırılmıştır.
- D) Anayasal yönetime geçiş sağlanmıştır
- E) Çağdaş bir toplumun oluşmasına zemin hazırlanmıştır.

20) Türk – İslam dünyasında pozitif bilimler kiminle başlamıştır?

- A) Farabi
- B) Ömer Hayyam
- C) İbn-i Sina
- D) Vasiti
- E) İbn-i Rüşd

21) Aşağıdaki Atatürk ilkelerinden hangisi, Atatürkçü düşünce sisteminin durağan olmadığını göstermektedir?

- A) Cumhuriyetçilik
- B) Halkçılık
- C) Milliyetçilik
- D) İnkılâpçılık
- E) Laiklik

22) Hangi ilimiz gülü ile meşhurdur?

- A) Isparta
- B) Sivas
- C) Samsun
- D) Ankara
- E) Antalya

23) Cumhuriyetle birlikte ölçülerde yapılan değişikliklerle Türk Devletine hangi alanda kolaylık sağlanmıştır?

- A) Eğitim
- B) Siyaset
- C) Ekonomik
- D) Diplomatik
- E) Hiçbiri

24) Mıknatıs aşağıdakilerden hangisini çeker?

- A) İplik
- B) Tüy
- C) Çivi
- D) Çiçek
- E) Yaprak

25) Türkiye'de e-devlet uygulaması hangi tarihte yürürlüğe girmiştir?

- A) 2010
- B) 2009
- C) 2011
- D) 2008
- E) 2006

26) Aşağıdakilerden hangisi vatandaşın Devlete karşı görevi değildir?

- A) Adaleti ve refahı sağlamak
- B) Vergi vermek
- C) Kanunlara uymak
- D) Seçme-seçilme hakkı
- E) Askere gitmek

27) Resmi Gazeteyi çıkaran makam aşağıdakilerden hangisidir?

- A) TBMM
- B) Milletvekilleri
- C) Bakanlar
- D) Cumhurbaşkanlığı
- E) Anayasa Mahkemesi

- 28) 1. Karadeniz iklimi
2. Akdeniz iklimi
3. Ege iklimi
4. Karasal İklim
5. Marmara İklimi

Yukarıda verilen iklim çeşitlerinden hangileri ülkemizde görülür?

- A) 1 – 2 – 4
- B) 1 – 2 - 5
- C) 3 – 5
- D) 1 - 2
- E) 2 - 3

29) Aşağıdakilerin hangisi Karadeniz bölgesinde yetiştirilir?

- A) Arpa-Muz
- B) Pirinç- Mandalina
- C) Fındık-Buğday
- D) Fındık- Çay
- E) İncir-Buğday

30) Ülkemizde Doğu Anadolu Bölgesinde bulunan en büyük göl hangisidir?

- A) Tuz Gölü
- B) Van Gölü
- C) Hazar Gölü
- D) Eğirdir Gölü
- E) Borçka Göl

TEST BİTTİ.

CEVAPLARINIZI KONTROL EDİNİZ.